



# UNIVERSIDAD NACIONAL AUTONOMA DE MEXICO

Facultad de Ciencias

"GEOMETRIA DE CONCURSO PARA  
PREPARAR ALUMNOS DE SECUNDARIA"

TESIS  
QUE PARA OBTENER EL TITULO DE  
ACTUARIA  
PRESENTA

DIANA GARCIA GODINEZ



FACULTAD DE CIENCIAS  
UNAM

Director de Tesis  
M. en C. ALEJANDRO BRAVO MOJICA

2002

DIVISION DE ESTUDIOS PROFESIONALES



FACULTAD DE CIENCIAS  
SECCION ESCOLAR



Universidad Nacional  
Autónoma de México



**UNAM – Dirección General de Bibliotecas**  
**Tesis Digitales**  
**Restricciones de uso**

**DERECHOS RESERVADOS ©**  
**PROHIBIDA SU REPRODUCCIÓN TOTAL O PARCIAL**

Todo el material contenido en esta tesis esta protegido por la Ley Federal del Derecho de Autor (LFDA) de los Estados Unidos Mexicanos (México).

El uso de imágenes, fragmentos de videos, y demás material que sea objeto de protección de los derechos de autor, será exclusivamente para fines educativos e informativos y deberá citar la fuente donde la obtuvo mencionando el autor o autores. Cualquier uso distinto como el lucro, reproducción, edición o modificación, será perseguido y sancionado por el respectivo titular de los Derechos de Autor.



UNIVERSIDAD NACIONAL  
AVENIDA 11  
MEXICO

**M. EN C. ELENA DE OTEYZA DE OTEYZA**

Jefa de la División de Estudios Profesionales de la  
Facultad de Ciencias  
Presente

Comunico a usted que hemos revisado el trabajo escrito: GEOMETRIA DE CONCURSO  
PARA PREPARAR ALUMNOS DE SECUNDARIA.

realizado por GARCIA GODINEZ DIANA

con número de cuenta 08152814-7 , quién cubrió los créditos de la carrera de ACTUARIA

Dicho trabajo cuenta con nuestro voto aprobatorio.

Atentamente

Director de Tesis

Propietario M. en C. ALEJANDRO BRAVO MOJICA *ABM*

Propietario M. en C. EMMA LAM OSNAYA *Emma Lam O.*

Propietario DR. FERNANDO BRAMBILA PAZ *F-NU*

Suplente M. en C. ELENA DE OTEYZA DE OTEYZA *E. de Oteyza*

Suplente M. en C. AGUSTIN ONTIVEROS PINEDA *AP*

Consejo Departamental de MATEMATICAS

*Jose Antonio Flores Diaz*  
M. en C. JOSE ANTONIO FLORES-DIAZ

MATEMATICAS

*A la U.N.A.M.  
Que sembró en mí el deseo  
Del conocimiento y la sed  
De superación*

*Al m. en c. Alejandro Bravo Mojica  
Por su acertada asesoría*

*A Sergio  
Con quien espero seguir  
Por el camino de la vida*

*A Paulina y Sergio Iván  
Que nunca duden, que la educación  
Es la mejor herencia que pueden tener*

*A mi madre  
Porque me dio la vida  
Y me apoyó para que realizara  
Mis sueños*

*A Elizabeth, Victor Manuel,  
Daniel y Ana Lilia  
Mis hermanos, creyerón en mí  
Y creo que no los defraude*

## **INDICE**

<b>INTRODUCCION.....</b>	<b>1</b>
<b>I NOMENCLATURAS.....</b>	<b>3</b>
<b>II PROBLEMAS.....</b>	<b>4</b>
<b>III SOLUCIONES.....</b>	<b>18</b>
<b>IV DEFINICIONES Y TEOREMAS BÁSICOS DE GEOMETRIA.....</b>	<b>71</b>
<b>V AYUDA DE INTERNET.....</b>	<b>76</b>
<b>CONCLUSIONES.....</b>	<b>77</b>
<b>BIBLIOGRAFIA.....</b>	<b>78</b>

## INTRODUCCION

Me encontraba iniciando el segundo año de experiencia curricular como maestra de matemáticas a nivel Secundaria, cuando me solicitaron que organizara un curso para los alumnos más destacados en matemáticas que se encontraban en primero, segundo y tercero de secundaria. El curso consistía en preparar a los alumnos para que participaran en el 6° concurso de primavera de Matemáticas. Me entregaron unos exámenes de concursos anteriores, cuando revisé algunos de ellos me pregunté –Y esto ¿como lo voy a resolver?, no sabía por donde empezar y sobre todo los de Geometría no atinaba a resolverlos. Empecé a investigar sobre exámenes de concursos en internet y encontré varias páginas acerca del tema y algunos exámenes estaban resueltos, fui observando que para resolver los de Geometría tenía que manejar muy bien diversos teoremas y definiciones relacionados con el tema y aprender a ser observadora; ver las figuras geométricas de diferentes posiciones y ángulos además de poder seguir instrucciones para realizar construcciones geométricas.

Ustedes me preguntaran porqué me interese en Geometría y no en Teoría de números, Análisis combinatorio, desigualdades etc.. Que son los temas generales que se utilizan en éste tipo de concursos. Bueno me gustó Geometría porque sentí que podía en base a la observación y el análisis, poder utilizar el razonamiento inductivo y deductivo para solucionar diferentes problemas. Recordé que una vez leyendo un libro de Geometría<sup>1</sup> en el Prólogo decía lo siguiente: “Existe un déficit en la enseñanza de la Geometría en los colegios, enseñanza que en muchos casos ha sido disminuida al mínimo y en otros, simplemente se ha reducido a cero”. “ Pero, estimamos que desarrollar un adecuada imaginación geométrica es una cualidad indispensable y útil para diversos especialistas como: Ingenieros y Arquitectos etc.”. Estoy de acuerdo con estas premisas y además de que yo las aumentaría diciendo que a los niños desde niveles básicos se les debe de ir enseñando la Geometría pero razonando. Muchos alumnos llegan a la secundaria sin dominar lo que es el perímetro de una figura geométrica, cuándo se les solicita calcular el perímetro de una “figura compuesta”, esta puede ser la unión de triángulos, cuadrados, rectángulos, trapecios etc., simplemente dudan y muchos no lo pueden realizar. Por lo que me decidí a ponerme a estudiar para realizar el siguiente trabajo de investigación y apoyo para alumnos o docentes que deseen dominar el tema.

En el primer capítulo explicó las nomenclaturas que utilizo en todo el libro, en el capítulo II presento 100 problemas que puede resolver un alumno o maestro y los cuales estoy clasificando en cinco grandes grupos:

- a) Nociones geométricas básicas
- b) Congruencia y desigualdades en el triángulo
- c) Áreas de figuras

---

<sup>1</sup> Ejercicios de Geometría Elemental. Autor: Gonzalo Masjuán T. y Fernando Arenas D.

- d) La circunferencia
- e) Proporcionalidad y semejanza

En el capítulo III se encuentran las soluciones a los 100 problemas propuestos en el capítulo anterior, recomiendo no ver los resultados, antes de intentar resolverlos. En el IV proporciono un listado de las principales definiciones y teoremas usados en la solución de los problemas, la persona interesada deberá de aprenderlos o al menos estudiarlos. En el V presento una lista o guía de lugares en Internet que pueden ser visitados, los cuales se pueden enviar a imprimir para su estudio. Al final se presentan las conclusiones de éste trabajo.

Esta investigación fue inspirada para proporcionar las herramientas mínimas necesarias para cualquier maestro o alumno interesado en prepararse para impartir un curso o para participar en un concurso de matemáticas ya sea el de primavera o el concurso que se organiza a nivel estatal y posteriormente a nivel nacional, sobre todo para alumnos de nivel secundaria, ya que creo que desde ese nivel deben de empezar los jóvenes a prepararse para poder realizar una buena competencia a nivel internacional, una vez que se encuentren en bachillerato o preparatoria que es el nivel mínimo necesario que se solicita para estos concursos.

Por último quiero presentar un temario de Geometría, que yo considero que deberá de considerar un alumno para poder prepararse en una competencia a nivel nacional o internacional de matemáticas.

- Construcciones elementales con regla y compás
- Puntos notables en el triángulo
- Relaciones métricas en el triángulo
- Ángulos en la circunferencia.
- Relaciones métricas en la circunferencia
- Homotecia y semejanza
- Los movimientos en el plano
- Inversión en el plano
- Lugares geométricos



# ***I Nomenclaturas***

## **I NOMENCLATURAS**

A continuación presento una lista de nomenclaturas usadas en el trabajo

<	Ángulo
¶	Pi
Área( triángulo )	Área de un triángulo
~	Semejante
2:1	Dos a uno
Perímetro( triángulo )	Perímetro de un triángulo

## ***II Problemas***

## II PROBLEMAS

### a) Nociones geométricas básicas

1.- Sean cuatro ángulos consecutivos adyacentes:  $\angle AOB$ ,  $\angle BOC = 2\angle AOB$ ,  $\angle COD = 3\angle AOB$  y  $\angle DOA = 4\angle AOB$ . Calcular los ángulos

2.- Sean dos ángulos adyacentes consecutivos, el  $\angle AOB = a$  y el  $\angle BOC$ . El  $\angle AOC = b$  y D la bisectriz del  $\angle BOC$ . Demostrar que la bisectriz del  $\angle BOC$  forma un ángulo igual a  $\frac{1}{2}(a + b)$  con OA

3.- Si tenemos que el  $\angle AOC$  es un ángulo recto y el  $\angle AOB$  agudo, el  $\angle BOD$  recto. Sea OX la bisectriz del ángulo AOB y OY la bisectriz del  $\angle COD$ . Demostrar que las bisectrices son perpendiculares

4.- El lado de un triángulo equilátero es  $\frac{3}{7}$  del lado de un cuadrado. ¿Cuál es la razón de sus perímetros?

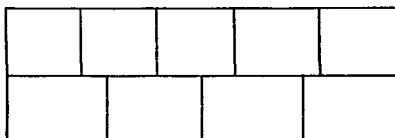
5.- En un trapecio rectangular de  $240 \text{ cm}^2$  de área y 12 cm de altura, la diferencia entre la base mayor y la base menor es de 9 cm. ¿Cuál es el perímetro del trapecio?

6.- La suma de un cateto y la hipotenusa de un triángulo rectángulo es 16.2 m, dado el cateto = AC = 1.8 m, calcular cuánto mide el cateto (AB) y la hipotenusa (BC)

7.- En el triángulo ABC se trazan las bisectrices de los ángulos A y B que se cortan en P. Por P se traza una paralela a AB que corta al lado AC en D y al lado BC en E. Se sabe que AD = 5.3 y BE = 7.8. Calcular la longitud de la paralela DE

8.- Encontrar el perímetro de un cuadrado ABCD, sea l la medida de cada lado. Sabiendo que la recta determinada por el vértice C y el punto medio E del lado opuesto mide 7m.

9.- Nueve rectángulos congruentes forman un rectángulo más grande (como en la figura), de área igual a  $720 \text{ u}^2$ . ¿Cuál es el perímetro?

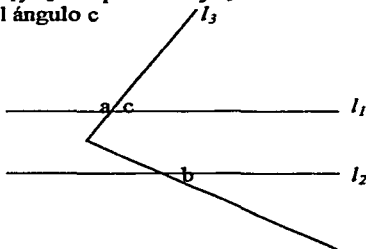


10.- Sea ABC un triángulo tal que el ángulo BAC + el ángulo ABC = 5 el ángulo ACB. Si O es el punto de intersección de las bisectrices de el ángulo ACB, el ángulo ABC y el ángulo BAC, calcular la medida del ángulo AOB

11.- Sea ABC un triángulo tal que el ángulo BAC =  $56^\circ$  y el ángulo ABC =  $65^\circ$ . Se traza por cada vértice la bisectriz exterior y queda determinado un nuevo triángulo PQR. Hallar el ángulo QPR,  $\angle$  PQR y el  $\angle$  PRQ

12.- En el cuadrilátero ABCD, el ángulo BAD mide  $42^\circ$ . Se traza la diagonal BD y resulta que el ángulo ABD es el doble del ángulo exterior a ABC y el ángulo ADB es el doble del ángulo exterior a ADC. ¿Cuánto mide el ángulo BCD ?

13.- En la figura de abajo,  $l_1$  y  $l_2$  son paralelas y  $l_3$  es la secante que las corta. El  $\angle a + \angle b = 160^\circ$ . Calcula el valor del ángulo c



14.- En un paralelogramo ABCD, la bisectriz del ángulo ABC intersecta a CD en un punto P, el ángulo CPB =  $35^\circ$ . La bisectriz del ángulo BCD intersecta a AB en un punto Q, el ángulo AQC =  $150^\circ$ . Sea R el punto de intersección de ambas bisectrices. Calcula el ángulo PRQ

15.- En un triángulo ABC cualquiera, el ángulo BAC =  $50^\circ$  y el  $\angle$  ABC =  $30^\circ$ . ¿ cuánto medirá el ángulo DCE que forman la altura CD y la bisectriz CE trazadas desde el vértice C?

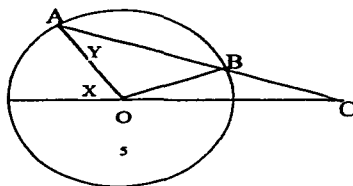
16.- En la figura de abajo el punto O es el centro del círculo y OA = BC. ¿Cuál de las siguientes relaciones es verdadera?

a)  $2X = 3Y$

b)  $X = 2Y$

c)  $X + Y = 90^\circ$

d)  $X + 2Y = 180^\circ$



17.- Dado un triángulo ABC cualquiera, se traza desde el vértice C hasta el lado AB, dos rectas CD y CE tales que el  $\angle ABC = \angle ACD$  y el  $\angle ECB = \angle BAC$ . El  $\angle ACB$  mayor a  $90^\circ$ . Demuestra que el triángulo CDE es isósceles

18.- En un triángulo cualquiera ABC, el  $\angle ABC = 2(\angle CAB)$ . Se traza la altura CH y se toma sobre la prolongación de CB una longitud BD = BH. Luego se traza la recta DH la cual interseca a AC en E. Demostrar que los triángulos AEH y CEH son isósceles

19.- Calcular los lados oblicuos de un trapecio isósceles ABCD, si la base mayor AB mide 20cm, el ángulo BAD igual a  $60^\circ$ , la diagonal es bisectriz del ángulo ABC y DE la altura del trapecio isósceles

20.- Demostrar que las bisectrices de los ángulos de un cuadrilátero cualquiera forman un cuadrilátero inscriptible

21.- En un triángulo cualquiera ABC se traza la bisectriz CD. Por D se traza una paralela a AC, la cual interseca a BC en E, y por E una paralela a AB, la cual interseca a AC en F. Demostrar que  $CE = AF$

22.- Sea ABCD un trapecio con vértices AB en la base mayor y CD en la base menor. Se trazan paralelas a BC y AD hasta intersectar en E y F, a la prolongación de CD. Demostrar que el  $\angle AEC = \angle ABC$  y  $\angle DFB = \angle DAB$

23.- En un paralelogramo ABCD se prolonga AB en BE = BC, y se prolonga AD en DF = DC. Demostrar que los puntos F, C y E son colineales

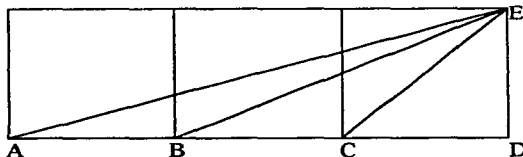
24.- Sea ABCD un cuadrilátero convexo y p el punto donde se intersectan las bisectrices que parten de los vértices A y B. Demostrar que el ángulo que forman las consecutivas bisectrices es igual a la semisuma de los otros dos ángulos  $(\angle BCD + \angle CDA)/2$

25.- Dado un trapecio ABCD tal que la base menor CD sea igual a la suma de los lados no paralelos AD y BC, Demostrar que las bisectrices de los ángulos DAB y ABC se intersectan sobre CD

26.- Dado un cuadrado ABCD, se construye los triángulos equiláteros ABE y BCF, el primero en el interior y el segundo en el exterior del cuadrado. Demostrar que los puntos D, E y F son colineales

27.- Sean tres cuadrados consecutivos de longitud igual a una unidad y del mismo tamaño. Sean A, B, C, D y E los vértice de cada uno de los lados de los cuadrados empezando del vértice izquierdo inferior. Desde el vértice A sale un segmento que lo une

a E, desde B a E otro segmento, y desde C a E otro segmento. Demostrar que el ángulo  $\angle DAE + \angle DBE = \angle DCE$



### b) Congruencia y desigualdades en el triángulo

28.- ¿Cuántos triángulos distintos hay de perímetro 17 y lados enteros ?

29.- Determinar los valores enteros de  $X$  tales que el triángulo 5,8 y  $X$  es obtusángulo

30.- Sea un triángulo escaleno. La longitud de los lados desde el más pequeño al más grande es: 6,  $X$  y 16. ¿Cuáles son los valores enteros posibles para  $X$  ?

31.- Sea  $ABC$  un triángulo rectángulo y  $AD$  la bisectriz del ángulo recto del triángulo que divide a la hipotenusa en dos segmentos  $CD = 6$  m y  $BD = 8$  m. Hallar el valor de los catetos

32.- El perímetro de un triángulo cualquiera  $ABC$  es 42m; la bisectriz  $CD$  que parte del vértice  $C$  divide a la base  $AB$  en dos segmentos  $BD = 6$  m y  $AD = 8$  m respectivamente. Encontrar la medida de los lados del triángulo

33.- El ángulo desigual  $\angle ACB$  en el vértice de un triángulo  $ABC$  isósceles es  $40^\circ$ . ¿Cuánto mide el ángulo  $\angle A'C'B'$  en el triángulo isósceles  $A'B'C'$ , que tiene por vértices los pies de las alturas del triángulo original?

34.- Sea un triángulo  $ABC$  cualquiera, y  $P$  un punto (exterior o interior) del triángulo y  $AP$ ,  $BP$  y  $CP$  las líneas que unen cada uno de los vértices del triángulo, con el punto  $P$ . Demostrar que la suma de las longitudes  $AP$ ,  $BP$  y  $CP$  es mayor que el semiperímetro del triángulo

35.- Dado el triángulo equilátero  $ABC$  se toman sobre los lados, a partir de cada vértice y en el mismo sentido, longitudes  $AA'$ ,  $BB'$  y  $CC'$ , todos iguales a un tercio de cada lado del triángulo. Demostrar que el triángulo  $A'B'C'$  es equilátero

36.- Igual que el anterior. Sea D, E y F los puntos medios de A'B, B'C y A'C. Demostrar que cada una de las rectas A'B', B'C' y C'A' son perpendiculares a cada uno de los lados del triángulo

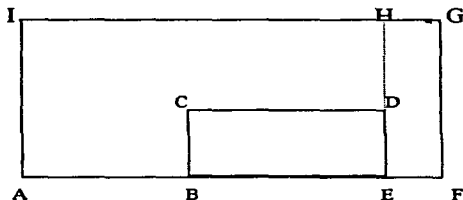
37.- Sea el cuadrilátero convexo ABCD, AC y BD sus diagonales y O el punto donde se intersectan las diagonales. Demostrar que la suma de las diagonales es mayor que la suma de los lados opuestos

38.- Sea ABCD un paralelogramo y E el punto medio de BC. Sea F la intersección de AE con BD. Probar que  $DF = 2FB$

39.- En un pentágono regular ABCDE, trazamos las diagonales AC y BE, que se cortan en el punto P. Recortamos el triángulo APB y obtenemos así el hexágono APBCDE. Muestra que se puede teselar el plano con estas piezas

### c) Áreas de figuras

40.- El rectángulo AFGI tiene 60 cm de perímetro y el rectángulo BCDE tiene 24 cm de perímetro. La longitud de BE es 8 cm y la de DH es de 10 cm. Encontrar el área de la figura ABCDEFGI



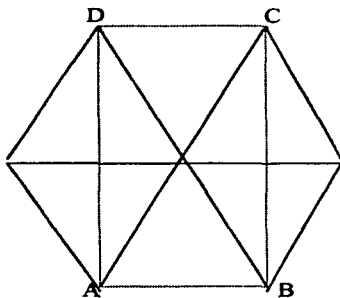
41.- El rectángulo ABCD tiene 3 m de largo por 2 m de ancho. Se corta la diagonal AC con los puntos E y F en tres segmentos iguales. ¿Cuál es el área del triángulo BEF?

42.- Un triángulo equilátero y un hexágono regular tienen el mismo perímetro. ¿Cuál es la razón de sus áreas?

43.- En un triángulo equilátero ABC, sea  $l$  la longitud de cada lado y  $3m$  la longitud de la recta CN que une al vértice C con la tercera parte de la base. Sea M el punto medio de AB y CM la recta que los une. Calcular el área del triángulo equilátero

44.- Al colocar cuatro triángulos equiláteros de lado  $l$ , como se muestra en la figura de abajo, los puntos A, B, C y D forman un rectángulo. Calcula el área del rectángulo ABCD





45.- Calcular el área del rombo en el que la diagonal mayor vale 1.9 m y sea  $l$  la medida de cada lado del rombo e igual a la diagonal menor

46.- Un paralelogramo tiene un lado menor igual a "b", y el lado mayor es el doble del menor. Se trazan las bisectrices interiores de sus ángulos, las cuales se intersecan en el punto M sobre el lado DC, y en N sobre el lado AB. Sea P la intersección de las bisectrices AM y DN y Q la intersección de las bisectrices CN y BM. Sea el  $\angle DAB = 60^\circ$ . Calcula en términos del lado menor del paralelogramo el área del rectángulo PNQM

47.- ABCD es un rectángulo, MNPQ son los puntos medios de sus lados, sea T el punto donde se intersecan QN con MC. Si el área, del triángulo OTC es igual a uno, ¿cuál es el área del rectángulo ABCD?

48.- Demostrar que de todos los rectángulos de igual perímetro, el de mayor área es el cuadrado

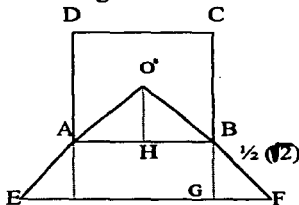
49.- Sea un cuadrado ABCD: a) E y F los puntos medios de los lados AB y CD del cuadrado, si unimos los vértices A y B con F, F con E. Calcular: la razón del área del triángulo BCF y el área del cuadrado ABCD. b) E,F,G y H los puntos medios de los lados del cuadrado, si unimos cada vértice con su punto medio opuesto, se forma en el centro un nuevo cuadrado IJKL. Calcular: la razón del área del cuadrado IJKL y el área del cuadrado ABCD

50.- Calcular las medidas de los lados de un triángulo rectángulo, si la hipotenusa mide una unidad más que un cateto y 8 unidades más que el otro cateto. Calcular su área

51.- En un cuadrado ABCD de lado k, se ubican los puntos P y Q sobre los lados BC y AB respectivamente, de tal manera que  $PB = 3PC$  y  $AQ = 2QB$ . Si se llama M al punto de intersección de AP y DQ, determinar el área del triángulo AMQ en función de k

52.- Sea ABC un triángulo equilátero. N es un punto del lado AC tal que  $AC = 7AN$ , M es un punto del lado AB tal que MN es paralelo a BC y P es un punto del lado BC tal que MP es paralelo a AC. Encuentre la fracción  $\frac{\text{área}(MNP)}{\text{área}(ABC)}$

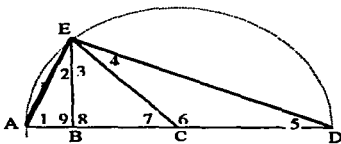
53.- La siguiente figura esta formada por un cuadrado y un triángulo sobrepuestos, donde el punto  $O_1$  es el punto en que se cortan las diagonales del cuadrado. La longitud de cada lado del cuadrado es 1 y  $BF = \frac{1}{2}\sqrt{2}$



54.- En un rectángulo WXYZ, sea T un punto sobre YZ, WT la línea que une el vértice W con T. V el punto que está verticalmente debajo de T y U que divide a XY en razón 2 a 1. Si el área del cuadrilátero TUVW es 12. ¿Cuánto vale el área del rectángulo WXYZ?

#### d) La circunferencia

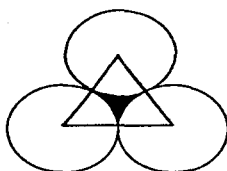
55.-Calcula el valor de todos los ángulos, sabiendo que el ángulo uno mide  $70^\circ$



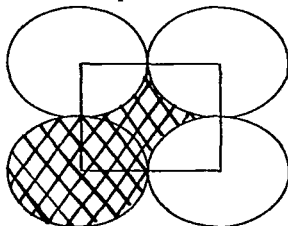
56.- Los tres vértices de un triángulo están en un círculo cuya área es  $\pi$ . Dos de los vértices están en un diámetro. ¿Cuál es el máximo valor que puede tener el área del triángulo?

57.- Sea ABC un triángulo inscrito en una circunferencia con centro en O y diámetro igual a AB, sea CO la mediana del ángulo recto, BP la bisectriz del ángulo ABC y el ángulo  $BAC = 58^\circ 30'$ . Calcular el ángulo BPO

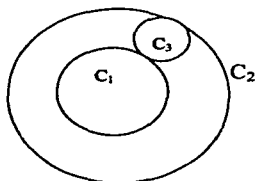
58.- Sean tres circunferencias tangentes entre si dos a dos, de un cm de diámetro cada una. Calcular el área que se encuentra entre las tres circunferencias y los puntos de tangencia



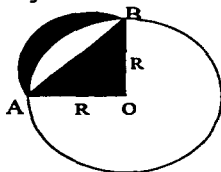
59.- Si los centros de cuatro circunferencias tangentes entre si dos a dos, forman un cuadrado de lado 2 cm. Calcular el área que se encuentra sombreada en la figura de abajo



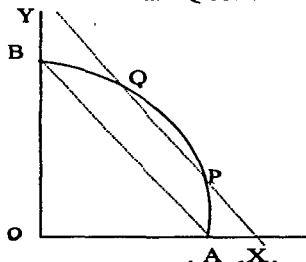
60.- Sean  $C_1$  y  $C_2$  dos circunferencias concéntricas y  $C_3$  una circunferencia exterior a  $C_1$ , interior a  $C_2$  y tangente a ambas. Si el radio de  $C_2$  vale 1, ¿cuánto debe valer el radio de  $C_1$  para que la superficie de  $C_1$  sea el doble que la de  $C_3$ ?



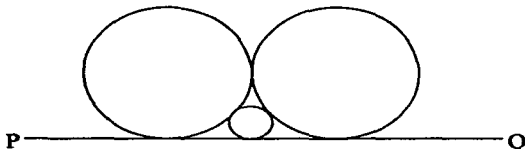
61.- Sea una circunferencia con radio  $R$  y centro en  $O$  como se muestra en la figura de abajo. El área del triángulo  $ABO$  y el área sombreada  $AB$ , ¿serán iguales?



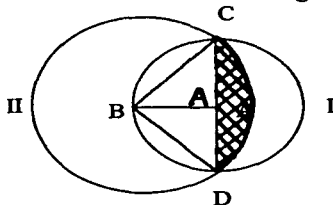
62.- La figura representa la cuarta parte de un círculo de radio 1. En el arco AB, se consideran los puntos P y Q de forma tal que la recta PQ sea paralela a la recta AB. Sean X e Y los puntos de intersección de la recta PQ con las rectas OA y OB respectivamente. Calcular  $(PX)^2 + (PY)^2$



63.- Tres circunferencias son tangentes entre sí y a la línea PQ, como lo muestra la figura. Los circunferencias grandes tienen el mismo radio. ¿Cuál es la razón entre el radio de la circunferencia pequeña y una de las grandes ?



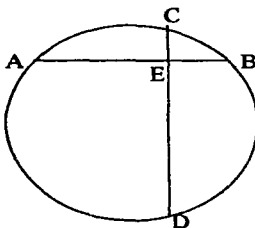
64.- En la figura de abajo A es el centro de la circunferencia I. B es centro de la circunferencia II y es un punto de la circunferencia I. El diámetro de la circunferencia I mide 4 unidades. Calcular el área sombreada en la figura



65.- Si dos de los lados de un triángulo ABC miden 12.8 y 6.9 m respectivamente, ¿cuál será el valor del tercer lado, sabiendo que la superficie del triángulo es  $49 \text{ m}^2$  y sea O el centro y r el radio de la circunferencia inscrita en dicho triángulo, el cual mide 3.5 m ?

66.- En un triángulo ABC, rectángulo en A, la hipotenusa  $CB = 10$ , el cateto  $AB = 8$  y el cateto  $AC = 6$ . Encontrar el valor de la mediana AM

67.- En una circunferencia, dos cuerdas perpendiculares AB y CD se cortan en un punto E.  $AE = 3$ ,  $EB = 2$ ,  $CE = 1$  y  $ED = 6$ , como en la figura de abajo. Hallar la longitud de la circunferencia



68.- Calcular el radio  $r$  de una circunferencia con centro en  $O$  circunscrita, en el triángulo  $ABC$ , cuyos lados miden:  $AB = 4$ ,  $AC = 3.2$  y  $BC = 2.4$  m

69.- Calcular el radio  $r$  de una circunferencia con centro en  $O$  inscrita, en el triángulo  $ABC$ , cuyos lados miden:  $AB = 4$ ,  $AC = 3.2$  y  $BC = 2.4$  m

70.-  $ABCD$  es un cuadrado de 4 cm de lado,  $E$  y  $F$  los puntos medios de  $DC$  y  $DA$ , los cuales se unen al vértice  $B$ .  $BE$  es un arco de circunferencia de radio de igual longitud que  $BE$ . Cuál es el área de la figura  $BEF$

71.- Demuestra que los ángulos opuestos de un cuadrilátero inscrito en una circunferencia son suplementarios

72.- Dos triángulos isósceles que tienen igual área y cuyos lados miden  $x$ ,  $x$ ,  $a$  y  $x$ ,  $x$ ,  $b$ ; donde  $a$  es desigual a  $b$ . Encontrar el valor de  $x$

73.- En un triángulo cualquiera  $ABC$ , se traza su altura  $CH$ , se toma la altura  $CH$  como diámetro de una circunferencia, que intersecta a los lados del triángulo  $BC$  y  $AC$  respectivamente en  $M$  y  $N$ . Demostrar que  $MN < CH$

74.- Demostrar que todo trapecio inscrito en una circunferencia es un trapecio isósceles

75.- Se consideran en una circunferencia dos arcos  $AB$  y  $BC$  de diferente tamaño, los cuales son unidos por cuerdas  $AB$  y  $BC$ . Sean los puntos medios de estos arcos  $M$  y  $N$ , los cuales son unidos por una cuerda  $MN$ . La recta  $MN$  intersecta a las cuerdas  $AB$  y  $BC$  en los puntos  $P$  y  $Q$ . Demostrar que  $BP = BQ$

76.- Se divide a una circunferencia de radio  $r$  en seis partes iguales. Con cada uno de los puntos de división como centro y radio  $r$ , se describe un arco en el interior de la circunferencia. Calcular el perímetro de la rosa así formada

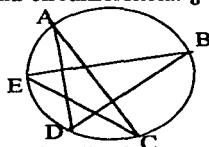
77.- Sobre un segmento  $OA$ , se toma éste como diámetro de una circunferencia, si designamos  $OA$  como radio de una segunda circunferencia y tomamos un segundo radio  $OC$  de la segunda, el cual intersecta a la primera en el punto  $B$ . Sea  $MB$  el segmento que une al centro de la primer circunferencia con el punto de intersección  $B$ . Demostrar que los arcos  $AB$  y  $AC$  son iguales

78.- Dado un triángulo equilátero  $ABC$  de  $8\text{m}$  de lado, y sea una circunferencia circunscrita al triángulo con centro en  $O$ .  $OH$  la altura del triángulo  $BOC$  y  $CD$  la altura del triángulo equilátero. Hallar el área del menor segmento circular determinado por la circunferencia circunscrita y el lado del triángulo  $BC$

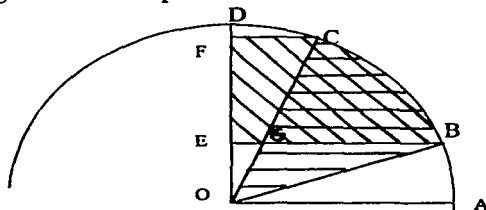
79.- Determinar las longitudes de dos de los lados de un cuadrilátero  $ABCD$  de  $22\text{ m}^2$  de superficie, circunscrito a un círculo de  $2\text{ m}$  de radio, siendo rectos dos de sus ángulos opuestos

80.- Dos circunferencia de centro  $O'$  y  $O$  son tangentes exteriormente en el punto  $A$ . Se trazan las cuerdas  $AM$  y  $AM'$  perpendiculares entre si. Sea  $AB$  el diámetro de la circunferencia que tiene como centro  $O$ . Demostrar que  $OM$  es paralela a  $O'M'$

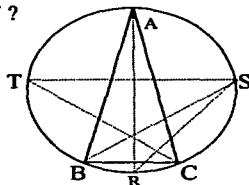
81.- Los puntos  $A, B, C, D$  y  $E$  son puntos de una circunferencia. ¿Cuál es la suma de los ángulos interiores  $\angle A, \angle B, \angle C, \angle D$  y  $\angle E$  ?



82.- El segmento  $OA$  de la figura de abajo, es el radio de un cuarto de circunferencia. Sobre el arco  $AD$  se toman dos puntos  $B$  y  $C$  tales que los arcos  $AB$  y  $CD$  sean iguales. Sobre el radio  $OD$  se trazan las perpendiculares  $EB$  y  $FC$ , y  $G$  el punto de intersección de  $OC$  y  $EB$ . Demostrar que la figura  $EBCF$  es equivalente con el sector  $OBC$

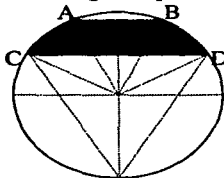


83.- Sea el triángulo isósceles ABC tal que  $AB = AC$ , sean R, S y T las intersecciones de las alturas de los vértices A, B y C, respectivamente, con el circuncírculo como se muestra es la figura. ¿Cuál es el valor del  $\angle RST$  ?

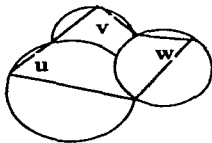


84.- Dos circunferencias con centro en O y O', son tales que  $OO' = 10r$  y  $r' = 4r$ . Se trazan las tangentes comunes interiores a ambas, sean E y A, B y D los puntos de tangencia de las circunferencias. O'E, O'A, OB y OD los radios de ambas. Calcular en términos de r, el perímetro de la figura ABCDEFA no convexa así formada

85.- Determinar el área de la porción de círculo comprendida entre dos cuerdas paralelas, una igual al lado del exágono regular y la otra del triángulo equilátero inscrito

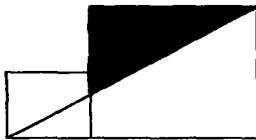


86.- ¿Cuánto vale la suma del  $\angle u + \angle v + \angle w$ , en la siguiente figura ?



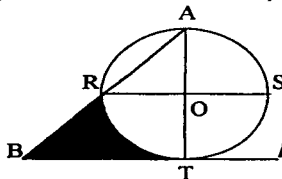
### e) Proporcionalidad y semejanza

87.- En la figura, cada lado del cuadrado más pequeño mide 3 y cada lado del cuadrado más grande mide 6, ¿cuál es el área del triángulo sombreado ?

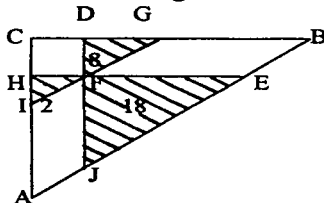


88.- ABCD es un cuadrado. AP y DP sus diagonales y P el punto donde se intersectan. E, F, G y H son los puntos medios de AP, DP, CP y BP, si unimos estos puntos formamos un nuevo cuadrado EFGH. ¿Cuál es la razón de las áreas del cuadrado EFGH y el cuadrado ABCD?

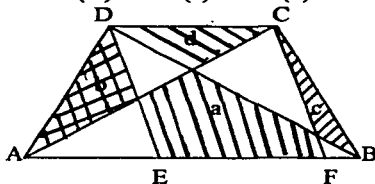
89.- El círculo de la figura tiene centro O y su diámetro mide 3. Los segmentos AT y RS son diámetros perpendiculares del círculo. La recta  $l$  es tangente al círculo en el punto T; B es la intersección de la recta  $l$  con la recta AR. Calcular el área de la región sombreada (delimitada por los segmentos BR y BT y el arco del círculo de RT)



90.- En la figura de abajo en el triángulo rectángulo ABC, se trazan segmentos paralelos a los lados del triángulo. Si las áreas de los tres triángulos que se forman, como se indica en la figura, son 2, 8, y 18, hallar el área del triángulo ABC



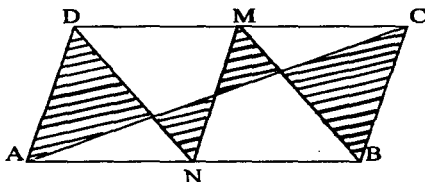
91.- En el trapecio ABCD de la figura de abajo, se han trazado las diagonales AC y BD y dos rectas paralelas entre si, una por DE y la otra por CF, como se muestra en la figura. Demostrar que el área(a) = área(b) + área(c) + área(d)



92.- Sea ABC un triángulo y P, Q y R los puntos medios de sus lados. Demuestra que el perímetro del triángulo formado por P, Q y R es la mitad del perímetro de ABC



93.- Si el paralelogramo ABCD tiene área  $1m^2$ , M y N son los puntos medios de los lados CD y AB respectivamente. ¿Qué área tiene la región sombreada ?



94.- Sobre cada uno de los lados de un triángulo equilátero, considerado como diámetro, se traza hacia el interior del triángulo una semicircunferencia. Estas tres semicircunferencias forman una rosa trilobada. Calcular el perímetro de la rosa en términos de la longitud del lado del triángulo

95.- Dado un triángulo ABC isósceles de base AB, se traza por el vértice C una recta que intersecta a la base en el punto D y a la circunferencia circunscrita en el punto E. Demostrar que  $(CB)^2 = (CD)(CE)$

96.- Sea AB un diámetro de una circunferencia dada. Se traza la tangente en el punto B y por el punto A una secante cualquiera que intersecta a la circunferencia en el punto M y a la tangente en el punto N. Demostrar que el producto de AM por AN es igual a cuatro veces el cuadrado del radio de la circunferencia

97.- El perímetro del rectángulo ABCD que tiene por vértices los puntos medios de los lados de un rombo EFGH es de 92cm, y la diagonal menor de éste mide 32cm. ¿Cuál es la longitud del lado del rombo ?

98.- En un cuadrilátero se toma sobre los lados longitudes AM y AN, CP y CQ respectivamente iguales a un tercio de AB, AD, CB y CD. Demostrar que las rectas que unen dos puntos vecinos son paralelas a las diagonales del cuadrilátero

99.- Se trazan las bisectrices de los ángulos en A y D de un paralelogramo ABCD, las cuales intersectan a las diagonales BD y AC en los puntos M y N respectivamente. Demostrar que MN es paralela con AD

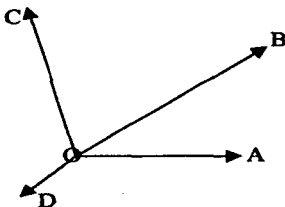
100.- En un rectángulo ABCD, AC es una diagonal. Una recta r se mueve paralelamente a AB, formando dos triángulos opuestos por el vértice, interiores al rectángulo. Prueba que la suma de las áreas de dichos triángulos es mínima, cuando r pasa por el punto medio del segmento AD

# ***III Soluciones***

### III SOLUCIONES

#### a) Nociones geométricas básicas

1.-



En la figura podemos observar lo siguiente:  $\angle AOB + \angle BOC + \angle COD + \angle DOA = 360^\circ$

El  $\angle BOC = 2 \angle AOB$  por hipótesis

El  $\angle COD = 3 \angle AOB$  por hipótesis

El  $\angle DOA = 4 \angle AOB$  por hipótesis, sustituyendo valores tenemos que:

$360^\circ = \angle AOB + \angle BOC + \angle COD + \angle DOA = \angle AOB + 2\angle AOB + 3\angle AOB + 4\angle AOB$

$360^\circ = 10 \angle AOB$  despejando

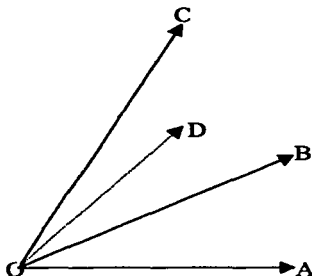
El  $\angle AOB = 1/10 (360^\circ) = 36^\circ$

El  $\angle BOC = 2 \angle AOB = 36^\circ(2) = 72^\circ$

El  $\angle COD = 3 \angle AOB = 36^\circ(3) = 108^\circ$

El  $\angle DOA = 4 \angle AOB = 36^\circ(4) = 144^\circ$

2.-



OD es la bisectriz del ángulo BOC

El ángulo BOC =  $\angle AOC - \angle AOB$ , pero como  $\angle AOC = b$  y el  $\angle AOB = a$  entonces

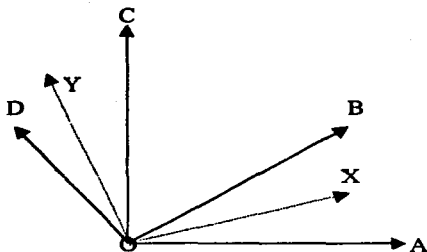
El ángulo BOC =  $b - a$

El ángulo AOD =  $\angle AOB + \angle BOD$ , pero como OD es bisectriz del ángulo BOC entonces

El ángulo AOD =  $a + \frac{1}{2}(b - a)$ , simplificando tenemos que:

El ángulo AOD =  $\frac{1}{2}(2a + b - a) = \frac{1}{2}(a + b)$

3.-



Si observamos la figura, el ángulo AOB y el  $\angle COD$  son agudos tales que OA es perpendicular a OC y OB es perpendicular a OD.

OX y OY son bisectrices de los ángulos AOB y el  $\angle COD$  además de que son iguales por tener sus lados respectivamente perpendiculares

Entonces  $\angle AOX = \angle XOB = \angle COY = \angle YOD$

Luego  $\angle XOY = \angle XOB + \angle BOY = \angle YOD + \angle BOY = \angle BOD = 90^\circ$

Por lo que OX y OY son perpendiculares

4.-



$l$



$3/7 l$

Sea  $l$  el lado del cuadrado y por hipótesis  $3/7 l =$  cada lado del triángulo equilátero entonces:

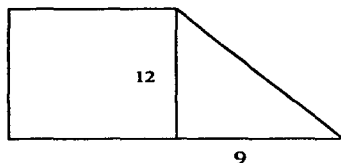
El perímetro del cuadrado  $= (4)(l)$ , el perímetro del triángulo equilátero  $= (3)($  la medida de cada lado del triángulo equilátero  $) = (3)(3/7 l) = 9/7 l$

Por lo tanto la razón de sus perímetros es:

Perímetro del triángulo  $= 9/7 l = \frac{9}{28}$

Perímetro del cuadrado  $4l$

5.-



Observando la figura y con los datos que nos proporcionaron tenemos lo siguiente:  
 Área del trapecio =  $\frac{(Base\ mayor + base\ menor) \cdot altura}{2} = \frac{(Base\ mayor + base\ menor) \cdot 12}{2} = 240$ .

Despejando obtenemos:  $(Base\ mayor + base\ menor) = 40$ . Sea B = base mayor, b = base menor y h = altura:

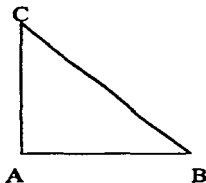
El perímetro del trapecio =  $B + b + h + c$ , donde c es el lado oblicuo. Despejando y sustituyendo valores:

El perímetro del trapecio =  $40 + 12 + c$ , utilizando el teorema de Pitágoras para calcular c:  
 $c = \sqrt{12^2 + 9^2} = \sqrt{144 + 81} = \sqrt{225} = 15$

Una vez obtenido todos los elementos:

El perímetro del trapecio =  $40 + 12 + 15 = 67\text{ cm}$

6.-



Sea  $AC = 1.8\text{ m}$  y  $AB + BC = 16.2$  por hipótesis, entonces como se trata de un triángulo rectángulo, por el Teorema de Pitágoras tenemos que:

$(BC)^2 = (AB)^2 + (AC)^2 = (AB)^2 + (1.8)^2$  ya que  $AC = 1.8$

despejando  $(BC)^2 - (AB)^2 = (1.8)^2$ , factorizando  $[(BC) + (AB)][(BC) - (AB)] = (1.8)^2$

pero como  $AB + BC = 16.2$ , sustituyendo resulta  $(16.2)[(BC) - (AB)] = (1.8)^2 = 3.24$

despejando  $[(BC) - (AB)] = \frac{1}{16.2} (3.24) = .2$ , para encontrar el valor de BC y AB; planteamos un sistema de ecuaciones:

$$(1) \quad (BC) - (AB) = .2$$

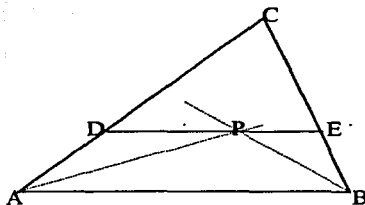
$$(2) \quad (BC) + (AB) = 16.2, \text{ lo resolvemos por suma y resta}$$

$$2(BC) = 16.4$$

$$BC = \frac{1}{2} (16.4) = 8.2, \text{ sustituyendo en (2) } 8.2 + AB = 16.2, \text{ despejando}$$

$$AB = 16.2 - 8.2 = 8$$

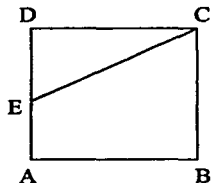
7.-



Observando la figura, el triángulo ADP es isósceles porque los ángulos DPA y PAB son alternos internos y además los ángulos DAP y PAB son iguales porque están formados por la bisectriz del ángulo BAC. Por lo tanto  $DP = AD = 5.3$ .

Análogamente el triángulo EPB es isósceles y  $BE = PE = 7.8$ , por lo tanto  $DE = DP + PE = 5.3 + 7.8 = 13.1$

8.-



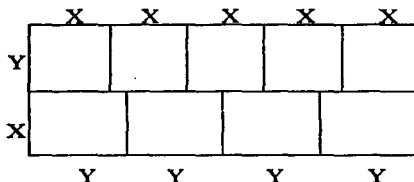
Sea  $AB = BC = CD = AD = l$  y  $CE = 7m$ , por hipótesis

$DE = AE = \frac{1}{2}l$ , ya que E es el punto medio de AD, si observamos la figura y el triángulo rectángulo CDE, por el teorema de Pitágoras:  $(CE)^2 = (CD)^2 + (DE)^2$ , sustituyendo valores:

$$(7)^2 = (l)^2 + (\frac{1}{2}l)^2 = \frac{5}{4}(l)^2, \text{ despejando } l = \sqrt{\frac{4}{5}[(49)(4)]} = \sqrt{39.2} = 6.26 \text{ m}$$

$$\text{El perímetro} = 4(l) = 4(6.26) = 25.04m$$

9.-

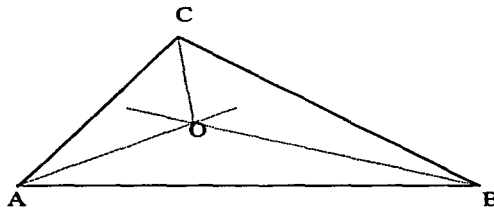


En la figura, sea  $X$  = el ancho de cada rectángulo pequeño e  $Y$  = el largo de cada rectángulo pequeño. El área total del rectángulo grande =  $720u^2$ , como son 9 rectángulos pequeños entonces área de cada rectángulo pequeño =  $720 / 9 = 80 u^2$ , es decir  $XY = 80 u^2$  (\*1\*). El área del rectángulo grande = (ancho)(largo) =  $(X + Y)(4Y) = 720 u^2$ , simplificando obtenemos que:

$4XY + 4Y^2 = 720$  (\*2\*), por (\*1\*) y sustituyendo en (\*2\*) obtenemos lo siguiente:

$4(80) + 4Y^2 = 720$ , despejando  $Y = \sqrt{\frac{1}{4}(720 - 320)} = \sqrt{100} = 10$  y ahora encontraremos el valor de  $X$ : despejando  $X$  de (\*1\*) entonces  $X = 80 / 10 = 8$ , por lo tanto el perímetro del rectángulo grande =  $2(\text{ancho}) + 2(\text{largo}) = 2(X + Y) + 2(4Y) = 2(8 + 10) + 2[4(10)] = 36 + 80 = 116 u$

10.-



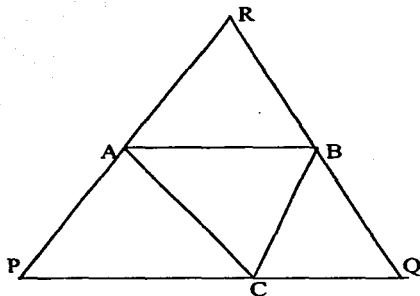
Por hipótesis tenemos que  $5(\angle ACB) = \angle BAC + \angle ABC$  (\*1\*) y, como "La suma de los ángulos interiores de cualquier triángulo es igual a  $180^\circ$ ", entonces:  
 $\angle BAC + \angle ABC + \angle ACB = 180^\circ$  (\*2\*).

Por (\*1\*) tenemos que si sumamos a cada lado de la igualdad el  $\angle ACB$ , obtenemos:

$6(\angle ACB) = \angle BAC + \angle ABC + \angle ACB = 180^\circ$ , despejando el  $\angle ACB = 180^\circ / 6 = 30^\circ$ .

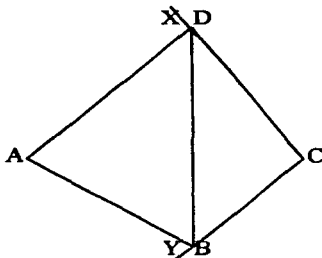
Entonces de (\*2\*) y sustituyendo valores  $\angle BAC + \angle ABC = 150^\circ$  (\*3\*). Si nos fijamos en la figura podemos observar que en el triángulo AOB, tenemos que el  $\angle AOB + \frac{1}{2}(\angle ABC + \angle BAC) = 180^\circ$ , pero por (\*3\*) tenemos que  $\angle AOB + 75^\circ = 180^\circ$ , despejando obtenemos:  $\angle AOB = 180^\circ - 75^\circ = 105^\circ$

11.-



Por hipótesis tenemos que el  $\angle BAC = 56^\circ$ , y el  $\angle ABC = 65^\circ$ , entonces el  $\angle ACB = 180^\circ - (56^\circ + 65^\circ) = 59^\circ$ . El  $\angle PAB = \frac{1}{2}(180^\circ - \angle BAC) = \frac{1}{2}(180^\circ - 56^\circ) = 62^\circ$ , el  $\angle PBA = \frac{1}{2}(180^\circ - \angle ABC) = \frac{1}{2}(180^\circ - 65^\circ) = 57^\circ 30'$  y el  $\angle QPR = \frac{1}{2}(\angle BAC + \angle ABC) = \frac{1}{2}(56^\circ + 65^\circ) = 60^\circ 30'$ , por ser bisectrices exteriores de los vértices A y B. Análogamente el ángulo  $\angle PQR = \frac{1}{2}(\angle ABC + \angle ACB) = \frac{1}{2}(65^\circ + 59^\circ) = 62^\circ$  y el  $\angle PRQ = \frac{1}{2}(180^\circ - \angle PQR + \angle QPR) = 180^\circ - (62^\circ + 60^\circ 30') = 180^\circ - 122^\circ 30' = 57^\circ 30'$

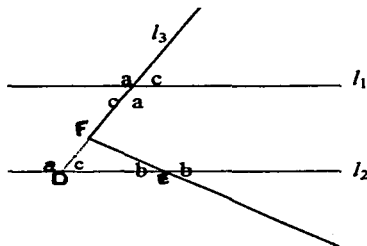
12.-



El  $\angle BAD = 42^\circ$ , el  $\angle ABD = 2(\angle \text{exterior de } ABC) = 2Y$  y  $\angle ADB = 2(\angle \text{exterior de } ADC) = 2X$ . Al observar la figura, en el triángulo CDB tenemos que el ángulo  $\angle BDC = 180^\circ - (\angle ADB + \angle \text{exterior } X) = 180^\circ - (2X + X) = 180^\circ - 3X$ , por ser suplementarios. El  $\angle CBD = 180^\circ - (\angle ABD + \angle \text{exterior } Y) = 180^\circ - (2Y + Y) = 180^\circ - 3Y$ , por ser suplementarios. El ángulo  $\angle BCD = 180^\circ - (\angle BDC + \angle CBD) = 180^\circ - (180^\circ - 3X + 180^\circ - 3Y) = 3X - 180^\circ + 3Y = 3(X + Y) - 180^\circ$  (\*1\*). En el triángulo ABD, el  $\angle BAD + \angle ADB + \angle ABD = 42^\circ + 2X + 2Y = 42^\circ + 2(X + Y) = 180^\circ$ , despejando  $X + Y = 69^\circ$ , sustituyendo en (\*1\*) tenemos lo siguiente:  $\angle BCD = 3(69^\circ) - 180^\circ = 207^\circ - 180^\circ = 27^\circ$



13.-



Si prolongamos la secante  $l_3$ , hasta intersectar la línea  $l_2$  se forma un triángulo DEF, en donde el  $\angle EDF = \angle c$  por ser alternos internos y el  $\angle DEF = \angle b$  por ser opuestos por el vértice. Como  $\angle a + \angle b = 160^\circ$  por hipótesis entonces al observar la figura podemos concluir que:  $\angle a + \angle c = 180^\circ$  por ser suplementarios y además de que  $\angle b + \angle c = 90^\circ$ .

De aquí podemos concluir de que tenemos un sistema de ecuaciones 3 X 3:

(1)  $\angle a + \angle b = 160^\circ$

(2)  $\angle a + \angle c = 180^\circ$

(3)  $\angle b + \angle c = 90^\circ$

vamos a resolver el sistema por suma y resta. Multiplicamos por  $-1$  la tercer ecuación y la sumamos con la ecuación (1):

(1)  $\angle a + \angle b = 160^\circ$

(3)  $-\angle b - \angle c = -90^\circ$

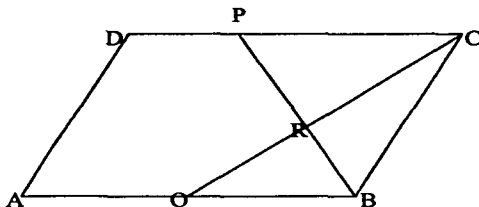
$\angle a - \angle c = 70^\circ$ , sumamos esta ecuación con la (2)

(2)  $\angle a + \angle c = 180^\circ$

$2(\angle a) = 70^\circ + 180^\circ = 250^\circ$ , despejamos  $\angle a = 250^\circ/2 = 125^\circ$ , sustituimos en (2)

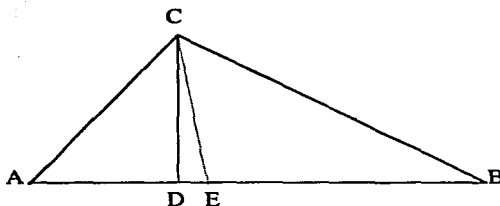
$\angle a + \angle c = 125^\circ + \angle c = 180^\circ$ , despejando  $\angle c = 180^\circ - 125^\circ = 55^\circ$

14.-



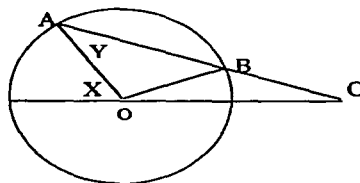
En la figura, los ángulos  $\angle AQC + \angle BQC = 180^\circ$ , por ser suplementarios entonces el  $\angle BQC = 180^\circ - \angle AQC = 180^\circ - 150^\circ = 30^\circ$ . Ahora como el  $\angle CPB = \angle QBP$  por ser ángulos alternos internos, entonces el  $\angle QBP = 35^\circ$ . Si observamos el triángulo BQR, el ángulo  $\angle BRQ = 180^\circ - (\angle BQC + \angle QBP) = 180^\circ - (30^\circ + 35^\circ) = 180^\circ - 65^\circ = 115^\circ$ , el ángulo  $\angle BRQ + \angle PRQ = 180^\circ$  por ser suplementarios, despejando el  $\angle PRQ = 180^\circ - \angle BRQ = 180^\circ - 115^\circ = 65^\circ$

15.-



Sean CD la altura y CE la bisectriz trazadas desde el vértice C. Si observamos el triángulo rectángulo ACD, el ángulo  $\angle ACD = 90^\circ - \angle CAD = 90^\circ - 50^\circ = 40^\circ$ , por ser el ángulo ADC recto y el  $\angle CAD = \angle BAC$ . El  $\angle ACE = \frac{1}{2} (\angle ACB) = \frac{1}{2} [180^\circ - (\angle BAC + \angle ABC)] = \frac{1}{2} [180^\circ - (50^\circ + 30^\circ)] = \frac{1}{2} [100^\circ] = 50^\circ$ , porque CE es bisectriz de ACB. El  $\angle DCE = \angle ACE - \angle ACD = 50^\circ - 40^\circ = 10^\circ$

16.-



OA = OB por ser radios del círculo, como OA = BC por hipótesis entonces OB = BC. Tenemos entonces dos triángulos isósceles: el AOB y el triángulo OBC.

Como el triángulo AOB es isósceles entonces el  $\angle Y = \angle OBA$

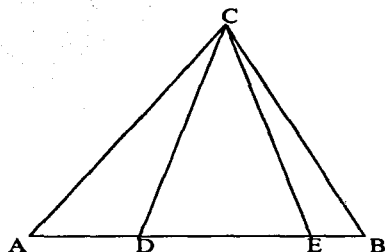
Como el triángulo OBC es isósceles entonces el  $\angle BOC = \angle BCO$

El ángulo OBC =  $180^\circ - \angle Y$ . En el triángulo OBC, el  $\angle BOC + \angle BCO + \angle OBC = 180^\circ$

Sustituyendo tenemos que el  $\angle BOC + \angle BCO + 180^\circ - \angle Y = 180^\circ$ ,  $\angle BOC + \angle BCO - \angle Y = 180^\circ - 180^\circ = 0$ . Despejando tenemos que el  $\angle BOC + \angle BCO = \angle Y$ , pero como  $\angle BOC = \angle BCO$ . De la igualdad anterior tenemos que  $\frac{1}{2} Y + \frac{1}{2} Y = Y$  entonces  $\angle BCO = \frac{1}{2} Y$ .

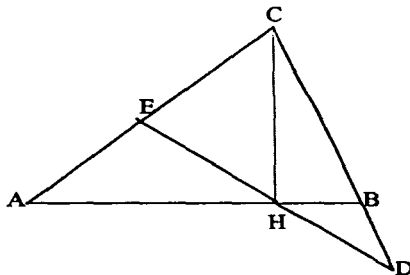
Si nos fijamos en el triángulo AOC, el ángulo X es exterior al triángulo entonces por el teorema "Un ángulo exterior de un triángulo es igual a la suma de los ángulos interiores no adyacentes" por lo tanto  $\angle X = \angle Y + \angle BCO = \angle Y + \frac{1}{2} Y$ , sumando las fracciones  $\angle X = < \frac{3}{2} Y$ , despejando tenemos que  $2X = 3Y$ , por lo tanto la solución es a)

17.-



Sea el  $\angle ACD = \angle ABC = a$ , el  $\angle ECB = \angle BAC = b$  y el  $\angle ACB > 90^\circ$  por hipótesis.  
 Como el  $\angle CDE$  es exterior al triángulo  $ACD$ , por el teorema "Un ángulo exterior de un triángulo es igual a la suma de los dos ángulos interiores no adyacentes", entonces  
 El  $\angle CDE = \angle ACD + \angle BAC = a + b$   
 Como el  $\angle CED$  es exterior al triángulo  $BCE$ , por el mismo teorema tenemos que:  
 El  $\angle CED = \angle ECB + \angle EBC = b + a$ , ya que el  $\angle ABC = \angle EBC$   
 De las dos igualdades podemos concluir que:  
 El  $\angle CDE = \angle CED$  entonces  $CD = CE$  y por lo tanto el triángulo  $CDE$  es isósceles

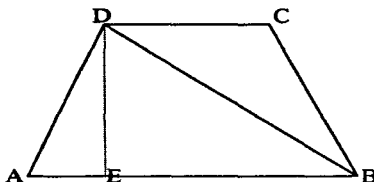
18.-



En la figura, sea  $\angle CAB = a$  entonces el  $\angle ABC = 2(a)$ . Ahora bien, como  $BD = BH$ , el triángulo  $BDH$  es isósceles, de modo que los ángulos  $\angle BHD$  y  $\angle BDH$  son iguales y como el ángulo  $\angle ABC$  es exterior, entonces  $\angle BHD = \angle BDH = a$ . Así, como  $\angle EHA = \angle BHD$  (opuestos por el vértice), entonces:  $\angle EHA = a = \angle EAH$ , de tal manera que el triángulo  $AEH$  es isósceles.

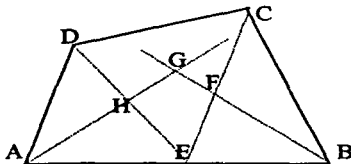
Por otra parte, como  $CH$  es perpendicular con  $AB$ ,  $\angle CHE = 90^\circ - \angle EHA = 90^\circ - a$  y observando el triángulo  $ACH$  tenemos lo siguiente:  
 $\angle ECH = 180^\circ - (\angle CAH + \angle AHC) = 180^\circ - a - 90^\circ = 90^\circ - a$ , por lo tanto  $\angle CHE = \angle ECH$  y  $EC = EH$  y el triángulo  $ECH$  es isósceles

19.-



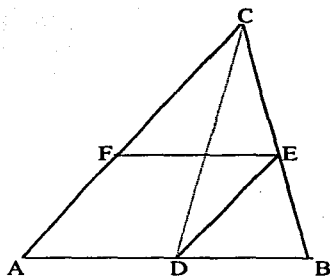
Por hipótesis  $AB = 20$  cm, el  $\angle BAD = 60^\circ$ , y la diagonal es bisectriz del ángulo  $ABC$ . Al ser isósceles el trapecio el  $\angle BAD = \angle ABC = 60^\circ$ . Como  $BD$  es diagonal y bisectriz resultan las siguientes igualdades: el  $\angle ABD = \frac{1}{2} (\angle ABC) = \frac{1}{2} (60^\circ) = 30^\circ$ , y el ángulo  $BDC = \angle ABD = 30^\circ$  por ser alternos internos entonces el  $\angle BCD = 180^\circ - (\angle BDC + \angle CBD) = 180^\circ - (30^\circ + 30^\circ) = 120^\circ$ . Observando la figura tenemos que el triángulo rectángulo  $ADE$  el  $\angle ADE = 180^\circ - (\angle AED + \angle DAE) = 180^\circ - (90^\circ + 60^\circ) = 180^\circ - 150^\circ = 30^\circ$ . Si nos fijamos en el triángulo rectángulo  $BDE$ , el  $\angle EDB = 180^\circ - (\angle BED + \angle EBD) = 180^\circ - (90^\circ + 30^\circ) = 60^\circ$ , entonces el  $\angle ADC = \angle BCD = 120^\circ$ . El triángulo  $BCD$  es isósceles ya que el  $\angle CBD = \angle BDC = 30^\circ$  entonces  $CD = CB$ . Analizando el triángulo rectángulo  $ADE$  tenemos que  $AE = \frac{1}{2} (AB - CD) = \frac{1}{2} (AB) - \frac{1}{2} (CD) = \frac{1}{2} (20) - \frac{1}{2} (CD) = 10 - \frac{1}{2} (CD)$  (\*1\*). Al observar el triángulo rectángulo  $AED$  tenemos que el  $\cos(60^\circ) = \text{cateto adyacente} / \text{hipotenusa} = AE / AD$ , como el  $\cos(60^\circ) = \frac{1}{2}$ , despejando y sustituyendo tenemos que  $AE = \frac{1}{2} (AD)$  (\*2\*), de donde reuniendo (\*1\*) con (\*2\*) tenemos que  $10 - \frac{1}{2} (CD) = \frac{1}{2} (AD)$ , despejando  $10 = \frac{1}{2} (AD + CD) = \frac{1}{2} (AD + AD) = \frac{1}{2} [2 (AD)] = AD$ , por ser  $AD = CD = CB$  y como se trata de un trapecio isósceles entonces  $AD = BC = 10$  cm

20.-



En la figura, se han trazado las bisectrices de los ángulos del cuadrilátero  $ABCD$ , formando ellas a su vez el cuadrilátero  $EFGH$ . El ángulo  $GHE$  es igual al ángulo  $AHD$  ya que son opuestos por el vértice. Entonces el ángulo  $GHE = 180^\circ - (\angle HAD + \angle HDA) = 180^\circ - \frac{1}{2} (\angle BAD + \angle CDA) = \angle AHD$ . Análogamente, se tiene que  $\angle GFE = 180^\circ - \frac{1}{2} (\angle ABC + \angle BCD)$  ya que el  $\angle GFE = \angle BFC$  por ser opuestos por el vértice. Por lo que  $\angle GHE + \angle GFE = 180^\circ - \frac{1}{2} (\angle BAD + \angle CDA) + 180^\circ - \frac{1}{2} (\angle ABC + \angle BCD)$ . Factorizando  $\frac{1}{2}$ :  $\angle GHE + \angle GFE = 360^\circ - \frac{1}{2} (\angle BAD + \angle CDA + \angle ABC + \angle BCD) = 360^\circ - \frac{1}{2} (360^\circ)$  a que "Los ángulos de un cuadrilátero suman  $360^\circ$ ", se tiene que:  $\angle GHE + \angle GFE = 360^\circ - 180^\circ = 180^\circ$ , el ángulo  $FGH + \angle FEH = 360^\circ - (\angle GHE + \angle GFE) = 360^\circ - 180^\circ = 180^\circ$ . Por lo que el cuadrilátero  $EFGH$  formado por las bisectrices es inscriptible

21.-

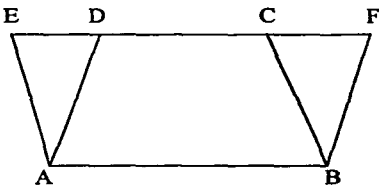


Al observar la figura, ADEF es un paralelogramo entonces  $AF = DE$  ya que " Los lados opuestos de un paralelogramo son iguales". Nos fijamos en el triángulo CDE, y debemos demostrar que  $DE = CE$  y además que es un triángulo isósceles:

El  $\angle ACD = \angle DCE$  ya que CD es bisectriz

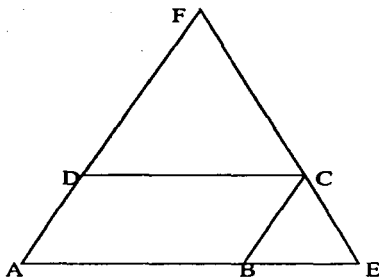
El  $\angle ACD = \angle CDE$  ya que son alternos internos entre las paralelas AC y DE, entonces el ángulo  $DCE = \angle CDE$  por lo tanto es un triángulo isósceles CDE y como  $AF = DE = CE$  entonces  $AF = CE$

22.-



En la figura, ABCE es un paralelogramo entonces por una propiedad de ellos: "Ángulos opuestos son iguales", el  $\angle AEC = \angle ABC$ . Si observamos nuevamente la figura, ABFD es otro paralelogramo y por la propiedad anterior el  $\angle DFB = \angle DAB$

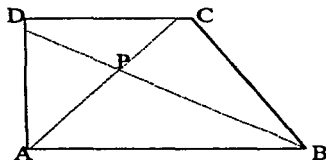
23.-



Observando la figura resultante y como  $DC = DF$  entonces el triángulo  $DCF$  es isósceles y por lo tanto el ángulo  $\angle AFE = \angle DCF$

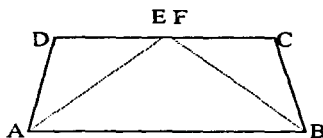
Como  $BE = BC$  entonces el triángulo  $BCE$  es isósceles y por lo tanto el ángulo  $\angle AEF = \angle BCE$ . Por ser  $ABCD$  un paralelogramo por la propiedad "Ángulos opuestos de un paralelogramo son iguales", entonces el  $\angle EAF = \angle BCD$ . Como "la suma de los ángulos interiores de un triángulo es igual a  $180^\circ$ ", entonces los ángulos interiores del triángulo  $AEF$  es igual a:  $\angle AFE + \angle EAF + \angle AEF = 180^\circ$  (\*1\*). Por coincidir los ángulos:  $\angle DFE = \angle DCF$ ,  $\angle BCE = \angle BEC$  y el  $\angle EAF = \angle BCD$  entonces por (\*1\*) y sustituyendo, el ángulo  $\angle DCF + \angle BCD + \angle BCE = 180^\circ$  y por lo tanto los puntos  $F, C$  y  $E$  son colineales

24.-



Observando la figura,  $AP$  es bisectriz del  $\angle DAB$  y  $BP$  es bisectriz del  $\angle ABC$ . El  $\angle APB = 180^\circ - \frac{1}{2} (\angle DAB + \angle ABC)$  (\*1\*), ya que "la suma de los ángulos interiores de cualquier triángulo es igual a  $180^\circ$ " y "la bisectriz divide a un ángulo en dos iguales". Por otra parte en el cuadrilátero  $ABCD$  se tiene que: "La suma de los ángulos interiores de cualquier cuadrilátero convexo es igual a  $360^\circ$ " entonces el  $\angle DAB + \angle ABC + \angle BCD + \angle CDA = 360^\circ$ , despejando tenemos  $\angle DAB + \angle ABC = 360^\circ - (\angle BCD + \angle CDA)$ , multiplicando por  $\frac{1}{2}$  cada miembro de la igualdad:  
 $\frac{1}{2} (\angle DAB + \angle ABC) = \frac{1}{2} [360^\circ - (\angle BCD + \angle CDA)] = 180^\circ - \frac{1}{2} (\angle BCD + \angle CDA)$   
 de la fórmula (\*1\*), sustituimos valores y obtenemos:  
 que el  $\angle APB = 180^\circ - [180^\circ - \frac{1}{2} (\angle BCD + \angle CDA)] = \frac{1}{2} (\angle BCD + \angle CDA)$

25.-

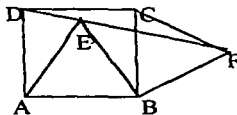


Por hipótesis  $AD + BC = CD$ , supongamos que las bisectrices  $AE$  y  $BF$  no se intersectan sobre  $CD$ . Observemos que esto significa que  $E$  y  $F$  son puntos distintos. Ahora bien, el  $\angle AED = \angle EAB$  (\*1\*), porque son alternos internos y el  $\angle DAE = \angle EAB$  ya que “la bisectriz de un ángulo lo divide en dos iguales” entonces el  $\angle DAE = \angle AED$  por (\*1\*) y por lo tanto el triángulo  $AED$  es isósceles y  $AD = DE$ .

El  $\angle CFB = \angle ABF$  (\*2\*) por ser alternos internos, el  $\angle ABF = \angle CBF$  ya que “la bisectriz de un ángulo lo divide en dos iguales” entonces  $\angle CFB = \angle CBF$  por (\*2\*) entonces el triángulo  $CBF$  es isósceles y  $CF = CB$

Por hipótesis tenemos que  $CD = AD + BC = DE + CF + EF$ , pero  $EF$  tiene que ser cero para que sea verdadera la igualdad entonces  $E$  y  $F$  tienen que ser el mismo punto donde se intersectan las bisectrices que se cortan sobre  $CD$

26.-



Para demostrar que los puntos  $D, E$  y  $F$  son colineales se tiene que demostrar que el ángulo  $DEF = 180^\circ$ .

El  $\angle DEF = \angle AED + \angle AEB + \angle BEF$ , el ángulo  $\angle AEB = 60^\circ$  ya que es un ángulo interior de un triángulo equilátero.

El triángulo  $ADE$  es isósceles ya que  $AD = AE$ , entonces  $\angle AED = \angle ADE$ .

$$\text{El } \angle DAE = 90^\circ - \angle BAE = 90^\circ - 60^\circ = 30^\circ$$

$$\text{El } \angle ADE = \angle AED = \frac{1}{2} (180^\circ - 30^\circ) = 75^\circ$$

El triángulo  $BEF$  es isósceles ya que  $BE = BF$  entonces  $\angle BFE = \angle BEF$

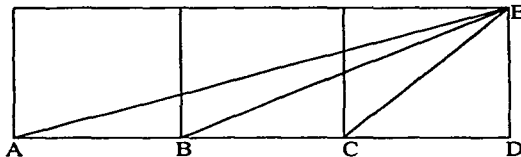
$$\text{El ángulo } \angle EBF = \angle EBC + \angle CBF = 30^\circ + 60^\circ = 90^\circ$$

$$\text{El } \angle BEF = \angle BFE = \frac{1}{2} (180^\circ - 90^\circ) = \frac{1}{2} (90^\circ) = 45^\circ$$

$$\text{Entonces } \angle DEF = \angle AED + \angle AEB + \angle BEF = 75^\circ + 60^\circ + 45^\circ = 180^\circ$$

Por lo tanto los puntos  $D, E$  y  $F$  son colineales

27.-



Al observar la figura tenemos que  $\tan A = \text{cateto opuesto} / \text{cateto adyacente} = DE / AD = 1/3$ ; ya que  $AB = BC = CD = DE = 1$ .

La  $\tan B = DE / BD = 1/2$  y la  $\tan C = DE / CD = 1/1=1$ , luego la  $\tan(A + B) = \tan A + \tan B / 1 - \tan A \tan B$ , sustituyendo valores tenemos que:

$$\tan(A + B) = 1/3 + 1/2 / 1 - (1/3)(1/2) = 5/6 / 1 - 1/6 = 1 = \tan C$$

por lo tanto el  $\angle DAE + \angle DBE = \angle DCE$

### b) CONGRUENCIA Y DESIGUALDADES EN EL TRIÁNGULO

28.- Llamemos a, b y c a los lados del triángulo. Entonces  $a + b + c = 17$ . Se deben de cumplir además las desigualdades del triángulo siguientes:  $a + b > c$ ;  $a + c > b$  y  $b + c > a$ . Construiremos los posibles valores de a, b y c usando una tabla y cuidando que se vayan cumpliendo las desigualdades anteriores:

a	b	c	Comentario	
1	8	8	Otros valores de b y c no cumplen las desigualdades	1
2	8	7	El triángulo 2,8 y 7 es el mismo que 2,7 y 8	2
3	7	7	El valor de a indica que la diferencia entre los otros dos lados	3
3	8	6	Debe ser menor que él	4
4	7	6		5
4	8	5		6
5	6	6	Conforme aumentamos el valor de a aparecen más	7
5	7	5	Possibilidades para los otros lados	8
5	8	4	Repetido	
6	6	5	Repetido	
6	7	4	Repetido	
6	8	3	Repetido	
7	6	4	Repetido	
7	5	5	Repetido. Todos los demás serán repetidos	

Son en total 8 triángulos con los lados enteros y perímetro 17



29.-

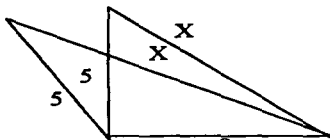


fig. 1

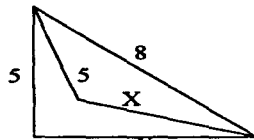
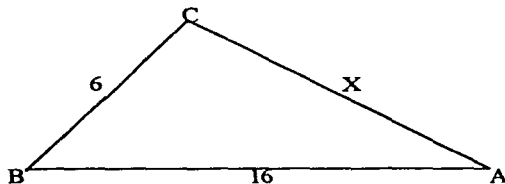


fig. 2

El triángulo que sirve como límite del obtusángulo es el rectángulo. Para que el triángulo de lados 5, 8 y  $x$  sea rectángulo se debe de cumplir lo siguiente (Teorema de Pitágoras):  
Tenemos dos casos:

- a)  $x = \sqrt{5^2 + 8^2} = \sqrt{25 + 64} = \sqrt{89}$ . En la fig. 1, para que el triángulo sea obtusángulo,  $x$  debe ser mayor que la raíz cuadrada de 89. Como  $x$  es entero,  $x$  es mayor que 9. El valor máximo que puede tomar  $x$  es 12, ya que para valores mayores no se forma un triángulo. Tenemos entonces 3 posibles valores para  $x$ : 10, 11 y 12
- b)  $8^2 = 5^2 + x^2$ , despejando  $x = \sqrt{64 - 25} = \sqrt{39}$ . En la fig. 2, para que el triángulo sea obtusángulo  $x$  debe ser menor que la raíz cuadrada de 39. Como  $x$  es entero  $x < 7$ . Los posibles valores de  $x$  son 6, 5 y 4. Por lo tanto contando los del primero y segundo caso son en total 6 triángulos.

30.-



Llamemos  $a$ ,  $b$  y  $c$  a los lados del triángulo. Entonces 6,  $x$  y 16 la longitud de los lados desde el más pequeño al más grande. Se deben de cumplir además las desigualdades del triángulo siguientes:

$$a + b > c;$$

$$a + c > b$$

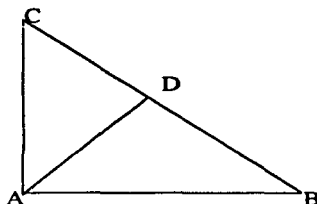
y

$$b + c > a$$

tenemos que:  $a = 6$ ,  $b = x$  y  $c = 16$ , por consiguiente:

a)  $6 + x > 16$ , b)  $6 + 16 > x$  y c)  $x + 16 > 6$ . De la primera desigualdad tenemos que  $x > 10$ , de la segunda que  $22 > x$  y por último que  $x > -10$ . Uniendo las tres desigualdades en una:  $10 < x < 22$ . De aquí podemos decir que  $x$  puede tomar los valores de: 11, 12, 13, 14 y 15 ya que la longitud del lado más grande del triángulo es 16

31.-



La hipotenusa  $(BC) = CD + BD = 6 + 8 = 14\text{m}$ , por hipótesis.

Recordemos la propiedad de la bisectriz de "dividir al lado opuesto en partes proporcionales a los otros dos lados", entonces:

$\frac{AB}{8} = \frac{AC}{6}$ , elevamos al cuadrado  $(\frac{AB}{8})^2 = (\frac{AC}{6})^2$ , como son fracciones equivalentes se pueden sumar

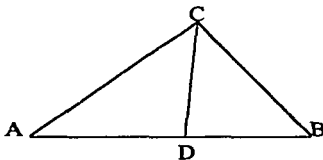
$(\frac{AB}{8})^2 + (\frac{AC}{6})^2 = (\frac{AB}{8})^2 + (\frac{AC}{6})^2 = (\frac{BC}{10})^2$ , ya que BC es la hipotenusa y utilizando el teorema de Pitágoras

$(\frac{BC}{10})^2 = (\frac{BC}{10})^2 = (\frac{14}{10})^2$ , como  $\frac{AB}{8} = \frac{AC}{6} = \frac{14}{10}$ , Para calcular AB o AC utilizamos la proporción siguiente

$\frac{AC}{6} = \frac{14}{10}$ , despejamos  $AC = \frac{1}{10} [(6)(14)] = 8.4$ . Realizamos el mismo procedimiento para obtener AB

$\frac{AB}{8} = \frac{14}{10}$ , despejamos  $AB = \frac{1}{10} [(8)(14)] = 11.2\text{m}$

32.-



Sea  $AB + BC + AC = 42\text{m}$ ,  $DB = 6\text{m}$  y  $AD = 8\text{m}$ ; por hipótesis

Recordemos la propiedad de la bisectriz de "dividir al lado opuesto en partes proporcionales a los otros dos lados", entonces:

(\*1\*)  $\frac{BC}{6} = \frac{AC}{8}$ , como son fracciones equivalentes se pueden sumar  $\frac{BC + AC}{14}$  (\*2\*)

El perímetro =  $AB + BC + AC = 14 + BC + AC = 42$ , ya que  $AB = 14 = AD + DB$

Entonces  $BC + AC = 42 - 14 = 28$ , pero por (\*1\*) tenemos lo siguiente:

$\frac{BC + AC}{14} = \frac{28}{14} = 2$ . De (\*1\*) tenemos que  $\frac{BC}{6} = 2$ , despejando  $BC = 12$ , y por el mismo procedimiento

$\frac{AC}{8} = 2$ , despejando  $AC = (2)(8) = 16$

33.-

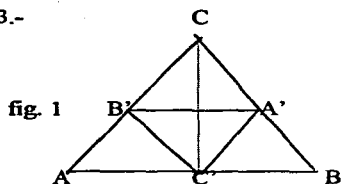


fig. 1

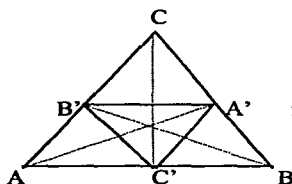
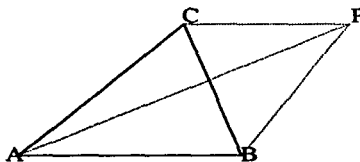


fig. 2

En la fig. 1, como el triángulo ABC es isósceles ( $AC = CB$ ) y el  $\angle CAB = \angle CBA$  y el  $\angle ACB = 40^\circ$ . A su vez  $A'$ ,  $B'$  y  $C'$  son los pies de las alturas. En la fig. 2, si trazamos una línea de  $AA'$  y de  $BB'$ , los triángulos  $ABA'$  y  $ABB'$  son rectángulos de hipotenusa  $AB$  y  $C'$  es el punto medio de ésta, entonces  $A'C' = B'C' = \frac{1}{2}(AB)$ , de tal manera que el triángulo  $A'B'C'$  es isósceles de vértice  $C'$ . Los triángulos  $B'AC'$  y  $A'BC'$  son isósceles de vértice  $C'$ , ya que  $AC' = B'C'$  y  $A'C' = C'B$  y los ángulos  $B'AC' = \angle AB'C' = 70^\circ$  y  $BA'C' = \angle A'BC' = 70^\circ$  ya que el  $\angle CAB = \angle CBA = B'AC' = A'BC' = \frac{1}{2}(180^\circ - 40^\circ) = \frac{1}{2}(140^\circ) = 70^\circ$  y el ángulo  $AC'B' = 180^\circ - 2(70^\circ) = 180^\circ - 140^\circ = 40^\circ$ . Por lo tanto el ángulo  $A'C'B' = 180^\circ - (\angle AC'B' + \angle A'C'B) = 180^\circ - (2(40^\circ)) = 100^\circ$ , por ser el ángulo  $AC'B$  suplementario

34.-



Sea P un punto exterior al triángulo ABC. Aplicando la desigualdad triangular en los triángulos PBC, PCA y PAB. Tenemos lo siguiente:

$$BP + CP > BC \quad \text{Para el triángulo PBC}$$

$$CP + AP > AC \quad \text{Para el triángulo PCA}$$

$$BP + AP > AB \quad \text{Para el triángulo PAB}$$

Sumamos las tres desigualdades

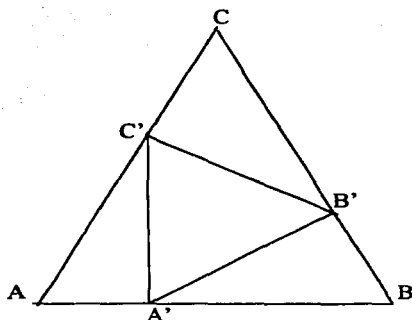
$$BP + CP + CP + AP + BP + AP > BC + AC + AB, \text{ acomodando tenemos que}$$

$$BP + BP + CP + CP + AP + AP > BC + AC + AB,$$

$$2(BP + CP + AP) > BC + AC + AB \text{ despejando}$$

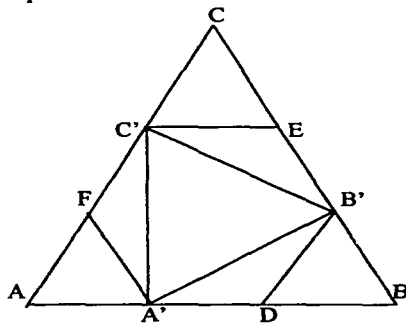
$BP + CP + AP > \frac{1}{2}(BC + AC + AB) = \text{semiperímetro}$ . Si tomamos a P como punto interior del triángulo ABC, la demostración es similar y se concluye lo mismo

35.-



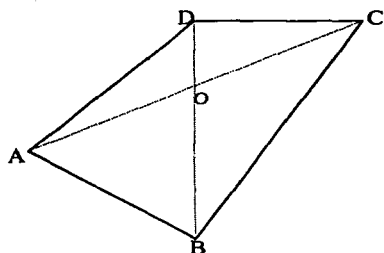
Sea  $a$  la longitud de cada lado del triángulo  $ABC$ , es decir  $AB = BC = CA = a$ . Los triángulos  $AA'C'$ ,  $A'B'B'$  y  $B'CC'$  son congruentes, ya que  $AA' = BB' = CC' = \frac{1}{3}(a)$   $AC' = A'B = B'C = \frac{2}{3}(a)$ . Como "Dos lados de cada triángulo rectángulo son iguales entonces el tercer lado también es igual", por lo tanto  $A'B' = B'C' = C'A'$  entonces el triángulo  $A'B'C'$  es equilátero

36.-



Como  $D$  es el punto medio de  $A'B$  entonces  $DB = \frac{1}{2}(A'B) = \frac{1}{2}(\frac{2}{3}(a)) = \frac{1}{3}(a) = BB'$  ya que  $AB = a$ . El ángulo  $DBC = 60^\circ$  por ser el triángulo  $ABC$  equilátero, el triángulo  $DBB'$ , por el criterio *lal* es semejante al triángulo  $ABC$ , y por lo tanto es equilátero también. Entonces los ángulos  $BB'D = 60^\circ$  y  $BDB' = 60^\circ$ . Como  $A'D = DB'$  entonces el triángulo  $A'DB'$  es isósceles y como el  $\angle BDB' = 60^\circ$  el  $\angle A'DB' = 180^\circ - 60^\circ = 120^\circ$  por ser suplementarios, entonces el  $\angle DB'A' = 30^\circ$  y el  $\angle A'B'B = \angle A'B'D + \angle DB'B = 30^\circ + 60^\circ = 90^\circ$ , entonces  $A'B'$  es perpendicular a  $BC$ . Como  $E$  es el punto medio de  $B'C$  entonces  $CE = \frac{1}{3}(a) = C'C$ , para concluir la demostración se realiza lo mismo, pero ahora para los puntos  $E$  y  $F$ .

37.-



Por la desigualdad triangular  $AO + OB > AB$  para el triángulo AOB

$OC + DO > CD$  para el triángulo COD. Ya no considero el triángulo AOD porque estaría repitiendo dos veces AO y DO y lo mismo sucede para el triángulo BOC.

Sumo las desigualdades  $AO + OB + OC + DO > AB + CD$

Como  $AO + OC = AC$  y  $DO + OB = BD$  entonces  $AC + BD > AB + CD$

Por lo tanto la suma de las diagonales es mayor que la suma de los lados opuestos AB y CD

38.-

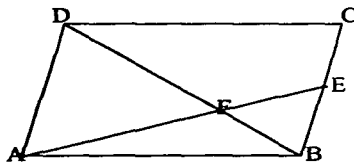


fig. 1

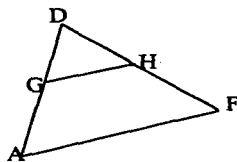



fig. 2

En la figura 1, el  $\angle ADF = \angle FBE$  por ser alternos internos entre dos paralelas AD y BC.

Si se coloca el triángulo BFE sobre el triángulo ADF, de modo que el  $\angle ADF$  coincida con el  $\angle FBE$ , se forma el triángulo DGH en la figura 2, el cual es igual al triángulo BFE. Como en la figura 2,  $DG = BE = \frac{1}{2}(AD)$  y como GH es la mediana de un triángulo, por "la mediana es paralela al lado respectivo e igual a su mitad" entonces  $GH = \frac{1}{2}(AF)$ .

$DH = FB = \frac{1}{2} DF$  entonces  $DF = DH + HF = FB + FB = 2FB$ , por lo tanto  $DF = 2 FB$

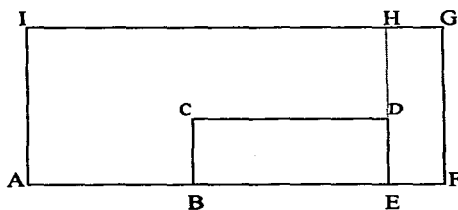
39.-



Las piezas que tenemos son como las que se muestran en la fig.1 de arriba. Los ángulos interiores del pentágono regular miden  $108^\circ$ . Los triángulos ABC y BAE son congruentes e isósceles y los ángulos EAB y ABC son iguales. Puesto que el ángulo EAB =  $108^\circ$  y el triángulo EAB es isósceles entonces el ángulo EBA =  $36^\circ$ . Como el triángulo APB es isósceles entonces el ángulo APB =  $108^\circ$ . Esto significa que podemos colocar piezas de las que tenemos formando un arreglo vertical como el que se muestra en la fig.2 sin que haya ningún espacio entre las piezas. Utilizaremos las piezas colocadas de cabeza, esto es, la reflexión del hexágono APBCDE como se muestra en la fig.2. Es claro que también podemos formar arreglos verticales con estas figuras. Podemos ahora juntar ambos arreglos verticales y extendernos horizontalmente tanto como queramos y así cubrir cualquier extensión en el plano.

### c) Áreas de figuras

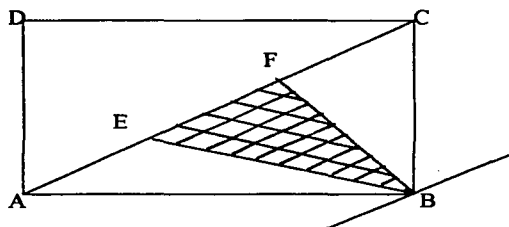
40.-



Observando el dibujo el perímetro ( rectángulo BCDE) =  $2(BC) + 2(BE) = 2(BC) + 2(8) = 2(BC) + 16 = 24$ , despejando  $BC = \frac{1}{2}(24 - 16) = 4$  (\*1\*).

Como  $DH = 10$  entonces  $AI = FG = ED + DH = 4 + 10 = 14$ (\*2\*), por lo tanto el perímetro ( rectángulo AFGI ) =  $2(AI) + 2(AF) = 2(14) + 2(AF) = 60$ , despejando  $AF = \frac{1}{2}(60 - 28) = 16$  (\*3\*). El área(rectángulo BCDE ) = (base)(altura) =  $(BE)(BC) = (8)(4) = 32 \text{ cm}^2$  por (\*1\*). Por lo que el área(rectángulo AFGI ) = (base)(altura) =  $(AF)(AI) = (16)(14) = 224 \text{ cm}^2$  por (\*2\*) y (\*3\*). Por lo que el área(ABCDEFGI) = área(rectángulo AFGI) - área(rectángulo BCDE) =  $224 - 32 = 192 \text{ cm}^2$

41.-

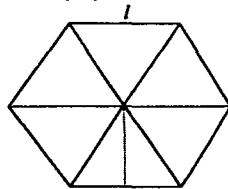
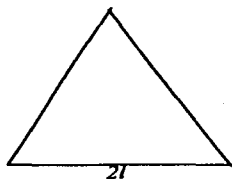


Al observar la figura anterior si trazamos, una línea recta paralela a AC que pase por el vértice B, podemos realizar el siguiente análisis:

Como los tres triángulos ABE, BEF y BFC concurren en el mismo vértice y además están entre paralelas y sus bases miden lo mismo por lo tanto los tres triángulos son congruentes.

El área(triángulo ABC) =  $\frac{1}{2}$  (base)(altura) =  $\frac{1}{2}$  (AB)(BC) =  $\frac{1}{2}$  (3)(2) = 3 m<sup>2</sup>. Por lo tanto el área( triángulo BEF) =  $\frac{1}{3}$  (área(triángulo ABC)) =  $\frac{1}{3}$  (3) = 1m<sup>2</sup>

42.-



Un hexágono está formado por seis triángulos equiláteros. Para que un triángulo equilátero tenga el mismo perímetro que un hexágono, su lado debe de ser el doble del de éste. "El área de éste triángulo será cuatro veces el área de los triángulos que forman el hexágono". Vamos a probar lo anterior:

Si un hexágono mide por lado 2cm entonces su perímetro =  $2(6) = 12$ cm

Si un triángulo equilátero mide 4cm por lado, es decir el doble de lo que mide cada lado del hexágono entonces su perímetro =  $3(4) = 12$  cm, ambos tienen el mismo perímetro.

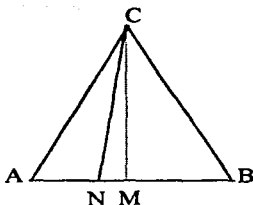
Ahora calcularemos sus áreas:

Por el Teorema de Pitágoras, la (altura del triángulo equilátero) =  $\sqrt{4^2 - 2^2} = \sqrt{16 - 4} = \sqrt{12} = 2\sqrt{3}$ , entonces el área del triángulo equilátero =  $\frac{1}{2}$  (base)(altura) =  $\frac{1}{2}$  (4)( $2\sqrt{3}$ ) =  $4\sqrt{3}$ .

Por el Teorema de Pitágoras, el (apotema del hexágono) =  $\sqrt{2^2 - 1^2} = \sqrt{4 - 1} = \sqrt{3}$ , entonces el área del hexágono =  $\frac{1}{2}$  (perímetro)(apotema) =  $\frac{1}{2}$  (12)( $\sqrt{3}$ ) =  $6\sqrt{3}$ .

Por tanto la razón entre las áreas =  $4\sqrt{3} / 6\sqrt{3} = 4/6 = 2/3$  simplificando.

43.-

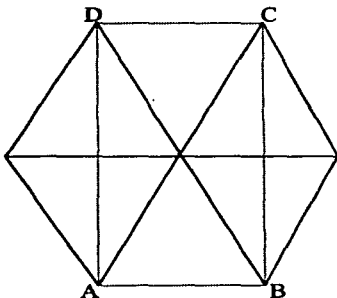


Sea  $AB = BC = CA = l$ , y  $CN = 3m$ . Tenemos que  $AN = 1/3 (AB) = 1/3 (l)$  y  $AM = MB = 1/2 (l)$ . Observando el triángulo rectángulo BCM tenemos por el Teorema de Pitágoras que  $CM = \sqrt{CB^2 - MB^2} = \sqrt{(l)^2 - [1/2 (l)]^2} = \sqrt{3/4 (l)^2} = 1/2 (l)\sqrt{3}$ .

El (área triángulo ABC) =  $1/2$  (base) (altura) =  $1/2 (AB) (CN) = 1/2 (l) [1/2 (l)\sqrt{3}] = 1/4 l^2 \sqrt{3}$  (\*1\*). Ahora vamos a calcular el valor de  $l$ , para poder encontrar exactamente el valor del área del triángulo equilátero. Si observamos la figura tenemos el triángulo rectángulo CNM, aplicando nuevamente el Teorema de Pitágoras:

$(CN)^2 = 3^2 = 9 = (MN)^2 + (CM)^2 = [1/6 (l)]^2 + [1/2 (l)\sqrt{3}]^2 = 1/36 l^2 + 3/4 l^2 = 28/36 (l^2)$ , ya que  $MN = AM - AN = 1/2 l - 1/3 l = 1/6 l$ . Despejando tenemos que  $l = \sqrt{11.57} = 3.4m$ . sustituyendo en (\*1\*) tenemos que el (área triángulo ABC) =  $1/4 (11.57\sqrt{3}) = 5.01m^2$

44.-

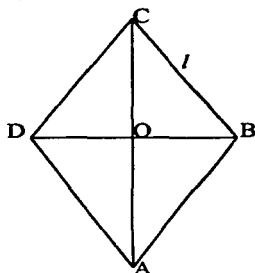


Al observar la figura tenemos que calcular primero la altura de cualquiera de los triángulos equiláteros. Por el teorema de Pitágoras, la altura =  $\sqrt{l^2 - (1/2 l)^2} = \sqrt{l^2 - 1/4 l^2} = \sqrt{3/4 l^2} = 1/2 (\sqrt{3}) l$ . Sea largo del rectángulo =  $AD = BC = 2(\text{altura del triángulo}) = 2[1/2 (\sqrt{3}) l] = (\sqrt{3}) l$ . El ancho del rectángulo =  $AB = DC = 2(1/2 l) = l$ .

Por lo tanto el área del rectángulo ABCD = (ancho)(largo) =  $(l) [(\sqrt{3}) l] = \sqrt{3} l^2$



45.-

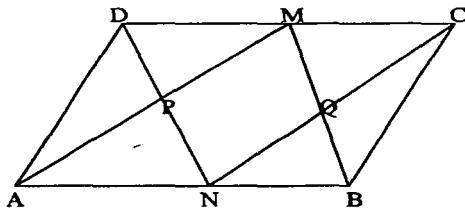


Por hipótesis tenemos que  $l =$  longitud de cada lado del rombo,  $OB = \frac{1}{2}l$  y  $CO = \frac{1}{2}(1.9)$ . Si observamos el dibujo tenemos que el triángulo rectángulo BOC, podemos aplicar el Teorema de Pitágoras:

$$(\text{hipotenusa})^2 = (\text{OB})^2 + (\text{CO})^2, \quad l^2 = \left[ \left( \frac{1}{2} \right) l \right]^2 + \left[ \frac{1}{2} (1.9) \right]^2 = \frac{1}{4} l^2 + \frac{1}{4} (3.61) = \frac{1}{4} l^2 + 0.9025, \text{ despejando } l^2 - \frac{1}{4} l^2 = 0.9025 \text{ entonces } l = \sqrt{(0.9025) \left( \frac{4}{3} \right)} = 1.097 \text{ m.}$$

Calculemos ahora la superficie del rombo  $= \frac{1}{2} [(D)(d)] = \frac{1}{2} [(1.9)(1.097)] = 1.04 \text{ m}^2$

46.-

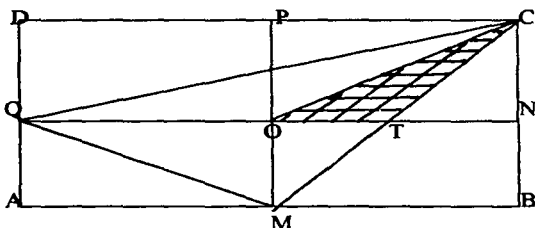


En la figura se tiene que  $AD = BC = b$  y  $AB = DC = 2b$  y el  $\angle DAB = 60^\circ$ . Supongamos que la bisectriz del ángulo en A interseca al lado DC en M. Entonces, como el  $\angle DAM = 30^\circ$  por ser bisectriz AM y el  $\angle CDA = 120^\circ$  ya que " Los ángulos colaterales internos de un paralelogramo son suplementarios ",  $\angle DAB + \angle CDA = 180^\circ$ . El  $\angle DMA = \angle MAN = 30^\circ$  por ser alternos internos, de tal manera que el triángulo ADM es isósceles. Así  $AD = DM = b$  y M es el punto medio de DC, también el triángulo BCM es isósceles siguiendo el mismo análisis anterior.

El triángulo AND es equilátero por ser  $AD = AN$  ya que N es el punto medio de AB entonces el  $\angle ADN = 60^\circ = \angle AND = \angle DAB$ . P es el punto medio de DN, luego  $PN = \frac{1}{2} (DN) = \frac{1}{2} (b)$ . Observando el triángulo rectángulo DMP, se tiene:

$$PM = \sqrt{(DM)^2 - (DP)^2} = \sqrt{b^2 - \left[ \frac{1}{2} (b) \right]^2} = \frac{1}{2} (b) \sqrt{3}. \text{ Así es que el área ( rectángulo PNQM) = (largo)(ancho) = ( PM )( PN ) = \left[ \frac{1}{2} (b) \sqrt{3} \right] \left[ \frac{1}{2} (b) \right] = \frac{1}{4} (b)^2 \sqrt{3}}$$

47.-



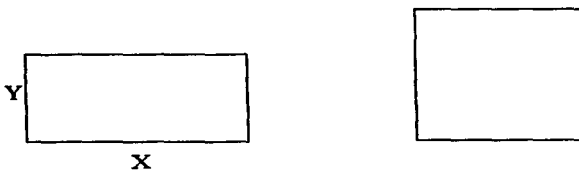
Sea T el punto donde se interseca MC con QN. Observando la figura los triángulos OTC y TNC son congruentes ya que  $OT = TN$ . Es decir, tienen la misma base y la misma altura y por lo tanto los triángulos OTC y TNC tienen la misma área, ya que "Triángulos que tienen la misma base y que están entre paralelas tienen la misma área".

Entonces el área del triángulo ONC =  $2(\text{área del triángulo OTC}) = 2(1) = 2$ .

El área del rectángulo ONPC =  $2(\text{área del triángulo ONC}) = (2)(2) = 4$ .

Entonces el área del rectángulo ABCD =  $4(\text{área del rectángulo ONPC}) = (4)(4) = 16$

48.-



Sean X e Y las medidas de los lados del rectángulo, sea  $2P$  su perímetro dado y A su área variable. Así: sea  $X + Y = P$  (\*1\*) y  $(X)(Y) = A$  (\*2\*), despejando  $Y = A/X$ , sustituyendo en (\*1\*) tenemos que  $X + A/X = P$  y luego  $X^2 - PX + A = 0$ . Resolviendo la ecuación de segundo grado por fórmula general tenemos que:

$X = \frac{1}{2} (P \pm \sqrt{P^2 - 4A})$ , como X debe ser un número real positivo ya que se trata de una longitud, debe tenerse que  $P^2 - 4A \geq 0$ ,  $-4A \geq -P^2$  de donde  $A \leq \frac{1}{4} (P^2)$ .

Así el área máxima que puede alcanzar el rectángulo es igual a  $\frac{1}{4} (P^2)$ . Con ello:  $X = \frac{1}{2} (P) = Y$ , es decir, el rectángulo de mayor área es el cuadrado

49.-

fig. 1

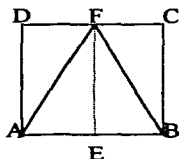
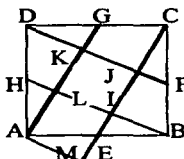


fig. 2



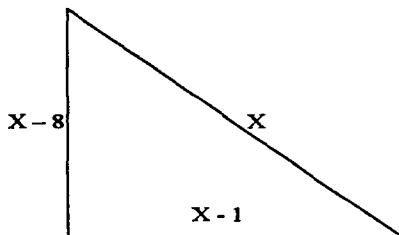
a) Si observamos la fig. 1, tenemos que al rectángulo BCGE y la diagonal lo divide en dos triángulos congruentes: el triángulo BGC y el triángulo EBG son congruentes ya que  $GC = EB$  ya que son lados paralelos de un rectángulo,  $EG = BC$  ya que son lados paralelos de un rectángulo y  $BG = BG$  ya que un segmento es igual a si mismo. Por el criterio  $///$  los triángulos BGC y EBG son congruentes. Lo mismo pasaría con el rectángulo ADGE, el cual también está dividido en dos triángulos congruentes por lo que el cuadrado se puede dividir en cuatro triángulos congruentes entonces la razón

$$\frac{\text{Área}(\text{triángulo BGC})}{\text{Área}(\text{cuadrado ABCD})} = \frac{1}{4}$$

b) En la fig. 2, trazamos AM paralelo a HB y prolongamos CE hasta el punto M. Los triángulos AEM y BEI son congruentes ya que  $AE = EB$ , los ángulos  $AEM = IEB$ , ya que son opuestos por el vértice. Al aumentar el triángulo AME (el cual sustituye al triángulo BEI) al cuadrilátero AEIL se forma el cuadrado ALIM. Si repetimos éste procedimiento con los otros tres triángulos CFJ, DGK y ALH, habremos transformado el cuadrado ABCD en 5 cuadrados congruentes al cuadrado ALIM. El cuadrado central IJKL más los cuatro cuadrados que formamos trasladando los triángulos:

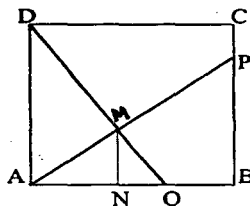
$$\frac{\text{La razón del Área}(\text{cuadrado IJKL})}{\text{Área}(\text{cuadrado ABCD})} = \frac{1}{5}$$

50.-



Si  $X$  es la medida de la hipotenusa, entonces los catetos miden  $(X - 1)$  y  $(X - 8)$ . Luego, por Pitágoras se tiene que  $X^2 = (X - 1)^2 + (X - 8)^2 = X^2 - 2X + 1 + X^2 - 16X + 64 = 2X^2 - 18X + 65$ , igualando a cero  $X^2 - 18X + 65 = 0$ , factorizando  $(X - 13)(X - 5) = 0$ , la solución es  $X_1 = 13$  y  $X_2 = 5$ . Como por hipótesis  $X$  debe ser mayor que 8, entonces sólo nos sirve la raíz  $X_1 = 13$ . Así la medida de la hipotenusa es 13, y la medida de un cateto  $= (X - 1) = 13 - 1 = 12$  y el otro  $= X - 8 = 5$ . Por lo tanto el área  $= \frac{1}{2} (12)(5) = 30$

51.-

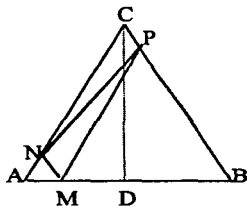


Sean  $BP = 3PC$  y  $AQ = 2QB$ ; En la figura como  $k = AQ + QB = 2QB + QB = 3QB$  despejando  $QB = 1/3(k)$  y como  $AQ = 2QB$  entonces  $AQ = 2(1/3(k)) = 2/3 k$ .

Observando la figura las rectas se intersectan en los  $2/3$  de  $k$  por lo que la altura del triángulo  $AMQ = MN = 1/3 (k)$ .

Entonces el área del triángulo  $AMQ = \frac{1}{2} (\text{base})(\text{altura}) = \frac{1}{2} (AQ)(MN) = \frac{1}{2} (2/3 k)(1/3 k) = 2k^2 / 18 = k^2 / 9$

52.-



Como  $AC = 7AN$  entonces  $AC/7 = AN$  y  $CN = 6/7(AC)$ . Observando la figura  $BC = 7CP$ ,  $BC/7 = CP$ , ya que  $MP$  tiene que ser paralelo a  $AC$ . Como necesitamos calcular el área del triángulo  $MNP$ , podemos calcular el área del paralelogramo  $CNMP$  y dividirlo entre dos:

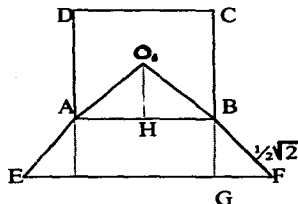
Área(paralelogramo  $CNMP$ ) =  $(CP)(CN) = 1/7 (BC)(6/7(AC))$ , pero como  $BC = AC$  por ser  $ABC$  un triángulo equilátero entonces el área del triángulo  $MNP$  es:  $\text{área}(\text{triángulo } MNP) = \frac{1}{2} [1/7 (AC)(6/7(AC))]$ , simplificando:  $\text{área}(\text{triángulo } MNP) = \frac{1}{2} (6/49(AC)^2) = \frac{1}{2} [6/98(AC)^2] = 3/49(AC)^2$ . Ahora vamos a calcular el área del triángulo  $ABC = \frac{1}{2} [(base)(altura)]$ . La base =  $AB = AC$ , la altura =  $CD$  por el teorema de Pitágoras  $(AC)^2 = (CD)^2 + (AD)^2$ , como  $AD = \frac{1}{2}(AC)$  tenemos al sustituir  $(AC)^2 = (CD)^2 + (\frac{1}{2}(AC))^2 = (CD)^2 + \frac{1}{4}(AC)^2$ , despejando  $CD$  se obtiene  $CD = \sqrt{(AC)^2 - \frac{1}{4}(AC)^2} = \sqrt{\frac{3}{4}(AC)^2} = \frac{1}{2}\sqrt{3} AC$ . Como base =  $AC$  y la altura =  $\frac{1}{2}\sqrt{3} AC$ , entonces

$\text{Área}(\text{triángulo } ABC) = (AC \cdot \frac{1}{2}\sqrt{3} AC)/2 = \frac{1}{4}(AC)^2\sqrt{3}$

Como nos están pidiendo calcular la fracción:

$$\frac{\text{área}(\text{triángulo } MNP)}{\text{área}(\text{triángulo } ABC)} = \frac{3(AC)^2/49}{\frac{1}{4}(AC)^2\sqrt{3}} = \frac{12(AC)^2}{49\sqrt{3}(AC)^2} = \frac{12}{49\sqrt{3}}$$

53.-



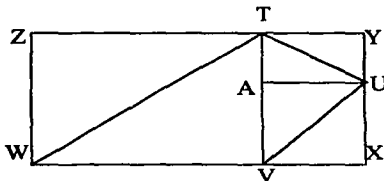
Revisando la figura, el área total es igual al área del cuadrado ABCD más el área del trapecio isósceles ABFE.

Área(trapezio ABFE) =  $\frac{1}{2}$  (base mayor + base menor) altura

Observando el triángulo rectángulo EO'F, utilizando el teorema de pitágoras, para encontrar la base mayor y observando el triángulo rectángulo O'HB entonces  $O'B = \sqrt{(HB)^2 + (HO')^2} = \sqrt{(\frac{1}{2})^2 + (\frac{1}{2})^2} = \sqrt{2/4} = \frac{1}{2}\sqrt{2}$ . Entonces la base mayor =  $\sqrt{(O'F)^2 + (O'E)^2} = \sqrt{(O'B + BF)^2 + (O'A + AE)^2} = \sqrt{[2(\frac{1}{2}\sqrt{2})]^2 + [2(\frac{1}{2}\sqrt{2})]^2} = \sqrt{2 + 2} = \sqrt{4} = 2$ . Para calcular la altura del trapecio, nos fijamos en el triángulo rectángulo BGF entonces altura =  $\sqrt{(BF)^2 - (GF)^2} = \sqrt{(\frac{1}{2}\sqrt{2})^2 - (\frac{1}{2})^2} = \sqrt{2/4 - 1/4} = \sqrt{1/4} = \frac{1}{2}$ , ya que GF =  $\frac{1}{2}$  (base mayor - AB) =  $\frac{1}{2}(2 - 1) = \frac{1}{2}$ .

Por lo tanto el Área(trapezio ABFE) =  $\frac{1}{2} [(2 + 1) \frac{1}{2}] = \frac{1}{2} [(3) \frac{1}{2}] = \frac{3}{4}$ . Entonces el área total = área(cuadrado ABCD) + (área trapecio ABFE) =  $2^2 + \frac{3}{4} = 4 + \frac{3}{4} = 4\frac{3}{4}$ .

54.-

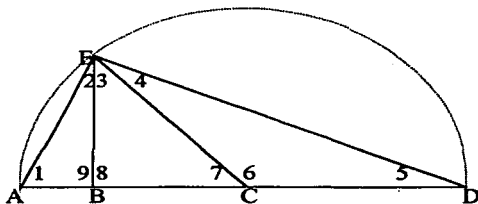


Trazamos TV y UA tal como se muestra en la figura. En el rectángulo TAUY, TU es su diagonal, por lo que divide el área en dos partes iguales.

Similarmente en los cuadriláteros AVXU y ZWVT, la diagonales VU y WT, los dividen en partes iguales. Por lo tanto, el área (rectángulo WXYZ) = área (rectángulo ZWVT) + área (rectángulo AVXU) + área (rectángulo TAUY) = 2 (cuadrilátero TUVW) = 2(12) = 24

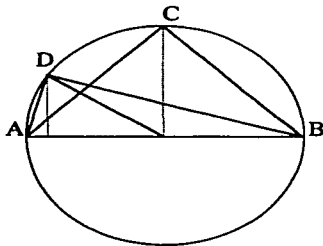
c) La circunferencia

55.-



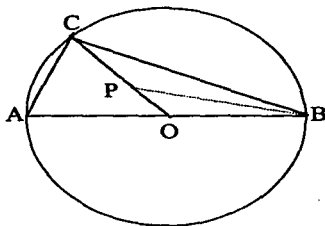
El  $\angle 9 = \angle 8 = 90^\circ$ , ya que la altura del triángulo ACE es perpendicular a la base AC. El  $\angle 2 = 180^\circ - (\angle 1 + \angle 9) = 180^\circ - (70^\circ + 90^\circ) = 180^\circ - 160^\circ = 20^\circ$ . Si observamos la figura el  $\angle 2 + \angle 3 + \angle 4 = 90^\circ$  (\*1\*), ya que el ángulo total abarca el diámetro de la semicircunferencia, entonces como el  $\angle 2 = 20^\circ$  tenemos que:  $\angle 3 + \angle 4 = 70^\circ$ . Como C es el centro del semicírculo entonces  $CD = AC = EC$  por ser radios del semicírculo, el triángulo CDE es isósceles entonces el  $\angle 4 = \angle 5$ . De la misma manera  $AC = CE$  por ser radios, el triángulo ACE es isósceles por lo tanto el  $\angle 1 = \angle 2 + \angle 3 = 70^\circ$ , como el  $\angle 2 = 20^\circ$  entonces el  $\angle 3 = 50^\circ$ , y por (\*1\*) concluimos que el  $\angle 4 = 20^\circ$ . como el  $\angle 4 = \angle 5$  entonces el  $\angle 5 = 20^\circ$ . El  $\angle 6 = 180^\circ - (\angle 4 + \angle 5) = 180^\circ - (20^\circ + 20^\circ) = 180^\circ - 40^\circ = 140^\circ$ . Por último el  $\angle 7 = 180^\circ - \angle 6 = 180^\circ - 140^\circ = 40^\circ$  por ser suplementarios.

56.-



Sea O el centro, r el radio de la circunferencia y DE la altura del triángulo ABD, como el área del círculo es  $\pi$  entonces  $r = 1$ . Si tomamos la base del triángulo como AB entonces  $AB = 2 =$  diámetro del círculo  $= 2r = 2(1)$ . La mayor altura que puede tener un triángulo cuyos vértices son A y B es la correspondiente al triángulo ABC cuya altura es  $OC = 1 =$  radio, por lo que el área(triángulo ABC)  $= \frac{1}{2}(\text{base})(\text{altura}) = \frac{1}{2}(2)(1) = 1$ . ¿Cómo podemos argumentar que el triángulo ABC es el que tiene mayor altura?. Tomemos otro triángulo con vértices ABD. En el dibujo se ve claramente que OC es mayor que DE pero éste no es un argumento válido (a veces nuestros sentidos nos engañan). OC y OD son iguales, por ser radios y  $DE < OD$  porque OD es la hipotenusa del triángulo rectángulo DEO en el que DE es un cateto, por lo tanto  $DE < OD$  entonces el área (triángulo ABD)  $<$  área(triángulo ABC)  $= 1$ , es el máximo valor que puede tener el área del triángulo.

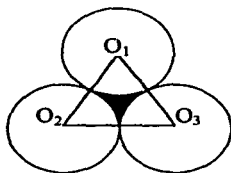
57.-



Al ser CO la mediana del ángulo recto, los triángulos AOC, en donde  $AO = CO = \text{radios}$  y el triángulo BOC con  $CO = BO = \text{radios}$  entonces ambos triángulos son isósceles.

En el triángulo BPC, el  $\angle BPO = \angle BCP + \angle CBP$  (\*1\*), ya que "Un ángulo exterior es igual a la suma de los ángulos interiores no adyacentes". Ahora el  $\angle BCP = 89^\circ 60' - \angle ACO = 89^\circ 60' - 58^\circ 30' = 31^\circ 30'$ . Como el triángulo BOC es isósceles el  $\angle BCP = \angle CBO$  entonces el  $\angle CBP = \frac{1}{2}(\angle CBO) = \frac{1}{2}(31^\circ 30') = 15^\circ 45'$ . Por lo tanto por (\*1\*) el  $\angle BPO = 31^\circ 30' + 15^\circ 45' = 47^\circ 15'$

58.-



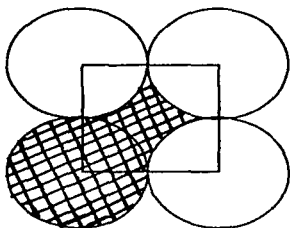
En la figura si unimos los centros de las circunferencias ( $O_1, O_2$  y  $O_3$ ), obtenemos un triángulo equilátero de  $60^\circ$  cada ángulo y cuya altura sería:

Utilizando el Teorema de Pitágoras, tenemos que:

La altura(triángulo  $O_1, O_2$  y  $O_3$ )<sup>2</sup> =  $(O_1O_3)^2 - [1/2(O_2O_3)]^2 = 1 - (1/2)^2 = 3/4$ , la altura =  $\sqrt{3/4} = 1/2\sqrt{3}$  ya que el radio de cada circunferencia es  $1/2$ .

El área sombreada = área del triángulo - tres sectores del círculo de  $60^\circ$  cada uno =  $\frac{1}{2}(\text{base})(\text{altura}) - \text{un semicírculo} = \frac{1}{2}(1)(\frac{1}{2}\sqrt{3}) - \frac{1}{2}[\pi(\frac{1}{2})^2] = \frac{1}{4}\sqrt{3} - \frac{1}{8}(\pi)$

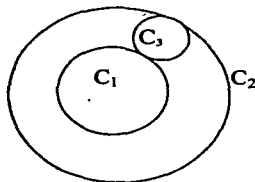
59.-



Al observar la figura cada círculo tiene de radio 1cm ya que cada lado del cuadrado mide 2 cm.

El área de la figura sombreada = área del cuadrado - tres sectores cada uno de  $90^\circ$  + las  $\frac{3}{4}$  partes del área de un círculo =  $(l)^2 - 3[\frac{1}{4}\pi(r)^2] + \frac{3}{4}\pi(r)^2 = (2)^2 - 3[\frac{1}{4}\pi(1)^2] + \frac{3}{4}\pi(1)^2 = 4 - \frac{3}{4}\pi + \frac{3}{4}\pi = 4 \text{ cm}^2$

60.-



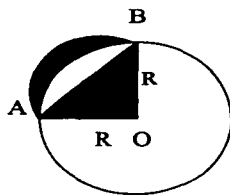
Sean  $r_1$  y  $r_3$  los radios de  $C_1$  y  $C_3$  respectivamente. Puesto que el radio de  $C_2 = 1$ , tenemos que  $r_1 + 2r_3 = 1 = r_2$ , despejando  $r_1 = 1 - 2r_3$  (\*1\*).

Para que el área de  $C_1$  sea el doble del área de  $C_3$  tenemos que:  $\pi(r_1)^2 = 2\pi(r_3)^2$ , sustituyendo (\*1\*), resulta  $\pi(1 - 2r_3)^2 = \pi[1 - 4r_3 + 4(r_3)^2] = 2\pi(r_3)^2$ , despejando tenemos que:  $1 - 4r_3 + 4(r_3)^2 = 2(r_3)^2$ .

Igualando a cero, simplificando términos semejantes y acomodando, obtenemos una ecuación de segundo grado:  $2(r_3)^2 - 4r_3 + 1 = 0$ , multiplicando por  $\frac{1}{2}$ ,  $(r_3)^2 - 2r_3 + \frac{1}{2} = 0$ , resolviendo mediante fórmula general: en donde  $a = 1$ ,  $b = -2$  y  $c = \frac{1}{2}$   
 $r_3 = \frac{1}{2} ( 2 \pm \sqrt{(-2)^2 - 4(1)(\frac{1}{2})} ) = 1 - \frac{1}{2} (\sqrt{2})$ , debemos tomar el signo menos de la raíz ya que  $r_3$  es menor que 1. Entonces sustituyendo en (\*1\*) tenemos que  $r_1 = 1 - 2r_3 = 1 - 2 + 2 \cdot \frac{1}{2} (\sqrt{2}) = -1 + \sqrt{2}$

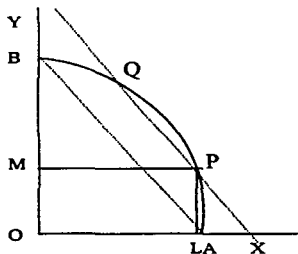


61.-



Para comprobarlo basta con calcular ambas áreas y compararlas. Observando el dibujo, tenemos que: el área(triángulo ABO) =  $\frac{1}{2}$  (base)(altura) =  $\frac{1}{2}$  (R)(R) =  $\frac{1}{2}$  (R)<sup>2</sup>. En la figura tenemos que: el semicírculo AB tiene de radio la mitad de la hipotenusa del triángulo rectángulo AOB, por el Teorema de Pitágoras: radio del semicírculo =  $\frac{1}{2}$  (AB) =  $\frac{1}{2} \sqrt{[(AO)^2 + (BO)^2]}$  =  $\frac{1}{2} \sqrt{[R^2 + R^2]}$  =  $\frac{1}{2} \sqrt{[2 R^2]}$  =  $\frac{1}{2} \sqrt{2} R$ ; el área(semicírculo AB) =  $\frac{1}{2} (\pi)(r)^2$  =  $\frac{1}{2} (\pi)(\frac{1}{2} \sqrt{2} R)^2$  =  $\frac{1}{4} (\pi)(R^2)$ ; el área(área blanca sector AB) = área(área blanca sector AOB) - área(triángulo ABO) =  $\frac{1}{4} (\pi)(R^2) - \frac{1}{2} (R)^2$ ; entonces tenemos que: el área(figura lunar sombreada AB) = área(semicírculo AB) - área(área blanca sector AB) =  $\frac{1}{4} (\pi)(R^2) - [\frac{1}{4} (\pi)(R^2) - \frac{1}{2} (R)^2]$  =  $\frac{1}{2} (R)^2$ . Con lo que queda comprobado que el área del triángulo ABO = área(figura lunar sombreada AB)

62.-



Sea PM la recta que trazamos por P paralela a la recta determinada por los puntos O y A. Sea PL la recta que trazamos por P perpendicular a la recta determinada por los puntos O y A. Si observamos la figura, vemos lo siguiente:

- El triángulo OAB es isósceles ya que OA = OB = 1 = radio
- El triángulo OXY es isósceles ya que el  $\angle OXY = 45^\circ = \angle OYX$  y OX = OY
- El triángulo LXP es isósceles ya que el  $\angle OXY = 45^\circ = \angle OYX$  y LX = LP
- El triángulo MPY es isósceles ya que el  $\angle MPY = 45^\circ = \angle MYP$  y MP = MY

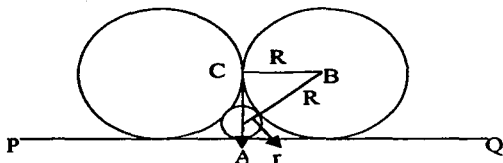
De lo anterior podemos concluir por el Teorema de Pitágoras que:

$(PY)^2 = (MP)^2 + (MY)^2 = 2(MP)^2$ , ya que MP = MY porque el triángulo MPY es isósceles

$(PX)^2 = (LX)^2 + (LP)^2 = 2(LP)^2$ , ya que LP = LX porque el triángulo LXP es isósceles.

Entonces  $(PX)^2 + (PY)^2 = 2(MP)^2 + 2(LP)^2 = 2((MP)^2 + (LP)^2) = 2(ML)^2$

63.-



Sea  $R$  = radio de la circunferencia grande y  $r$  = radio de la circunferencia pequeña. Entonces tenemos que: Observando el triángulo rectángulo que se formó al unir los centros y el punto de tangencia de las circunferencias grandes. Sean  $A, B$  y  $C$  los vértices del triángulo: por el teorema de pitágoras la (hipotenusa)<sup>2</sup> =  $(AB)^2 = (BC)^2 + (AC)^2$  (\*1\*). Sea  $BC = R$ ;  $AC = R - r$  y  $AB = R + r$  entonces por (\*1\*),  $(R+r)^2 = (R)^2 + (R-r)^2$ . Elevando al cuadrado cada uno de los binomios tenemos que:

$$R^2 + 2(Rr) + r^2 = R^2 + R^2 - 2(Rr) + r^2, \text{ simplificando}$$

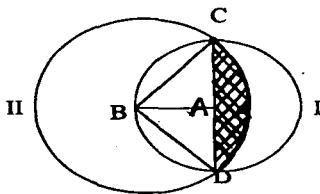
$$R^2 = 4(Rr)$$

$$R^2 / R = 4r$$

$$R = 4r$$

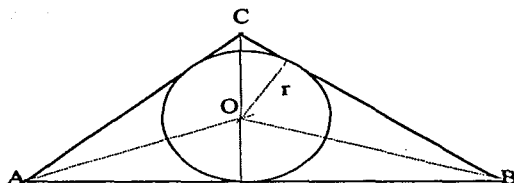
Por lo tanto el radio de la circunferencia grande es cuatro veces mayor que el radio de la circunferencia pequeña y la razón es:  $R/r = 1/4$

64.-



Al observar la figura el área(figura sombreada) = área(sector circular BCD) - área(triángulo BDC) (\*1\*). En el triángulo BDC, AB (radio de la circunferencia I = 4) es perpendicular a CD (diámetro de la circunferencia I = 4) y el área(triángulo BDC) =  $\frac{1}{2}$  (base)(altura) =  $\frac{1}{2}$  (CD)(AB) =  $\frac{1}{2}$  (4)( 4 ) = 8. El radio de la circunferencia II lo obtenemos aplicando el Teorema de Pitágoras al triángulo rectángulo ABC, entonces radio =  $BC = \sqrt{(AC)^2 + (AB)^2} = \sqrt{2^2 + 2^2} = \sqrt{8} = 2\sqrt{2}$ . El  $\angle DBC = 90^\circ$  ya que DC es diámetro de la circunferencia I, y por lo tanto éste sector circular es la cuarta parte del círculo II, es decir, el área(sector circular BCD) =  $\frac{1}{4}$  [ $\pi$  (  $2\sqrt{2}$  )<sup>2</sup> ] =  $2\pi$ . Luego, sustituyendo valores en (\*1\*) área(figura sombreada) =  $2\pi$  - 8

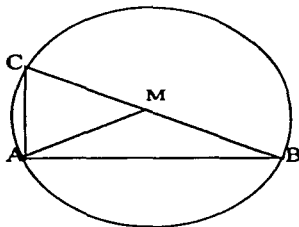
65.-



Sea el triángulo ABC, en él que trazamos las bisectrices, ya que el punto de intersección de las bisectrices, es el incentro, o centro de la circunferencia inscrita. Se forman tres triángulos: AOB, AOC y BOC, cuyas bases son, respectivamente los lados del triángulo, y en los tres la altura es r, radio de la circunferencia inscrita. El área(triángulo ABC) = área(triángulo AOB) + área(triángulo AOC) + área(triángulo BOC) =  $\frac{1}{2} (AB)(r) + \frac{1}{2} (AC)(r) + \frac{1}{2} (BC)(r) = \frac{1}{2} (r) [AB + BC + AC] = \frac{1}{2} (r) [p]$ , donde p es el perímetro. Entonces área(triángulo ABC) = 49 =  $\frac{1}{2} (3.5) (p)$ , despejando  $p = 2(49 / 3.5) = 28$ .

Por lo tanto para calcular el tercer lado del triángulo tenemos que  $p = 28 = 12.8 + 6.9 +$  tercer lado, despejando el tercer lado =  $28 - 19.7 = 8.3$  m

66.-



Hay que recordar y observando la figura, que “ Todo triángulo rectángulo puede inscribirse siempre en un círculo cuyo diámetro (CB) es la hipotenusa ”.

Al fijarse en la figura y trazar la mediana, la cual coincide con el radio de la circunferencia, por lo que como el diámetro = 10 = CB, por lo tanto AM = mediana = radio = 5

67.-

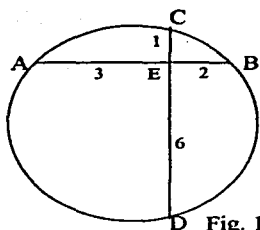


Fig. 1

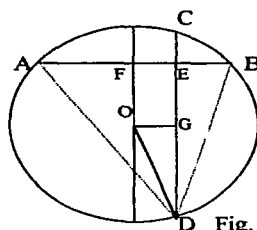
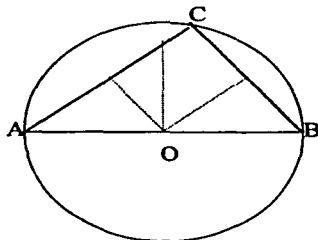


Fig. 2

Si unimos en la fig.2, A con D y B con D se forma un triángulo, se trazan sus mediatrices y el punto donde se intersectan es el circuncentro, el cual es el centro de la circunferencia. Sea O el centro de la circunferencia, entonces si trazamos el diámetro el cual corta a la cuerda AB en el punto F, el cual es el punto medio de AB, como  $AB = AF + FE + EB$ , sustituyendo valores  $5 = 2.5 + FE + 2$ , despejando  $FE = 5 - 4.5 = \frac{1}{2}$ . Ahora localizamos el punto G a la mitad de CD, como  $CD = CE + ED = 1 + 6 = 7$ , entonces  $GD = \frac{1}{2}(7)$ . Si unimos O con D y O con G, al observar el triángulo rectángulo DGO y por el Teorema de Pitágoras:  $OD = \text{el radio de la circunferencia} = \sqrt{OG^2 + GD^2} = \sqrt{(\frac{1}{2})^2 + (\frac{7}{2})^2} = \sqrt{50/4} = \frac{1}{2}(5\sqrt{2})$ .

Por último tenemos que el perímetro(circunferencia) =  $(\pi)(2r) = (\pi) 2[\frac{1}{2}(5\sqrt{2})] = 5(\pi)\sqrt{2}$

68.-

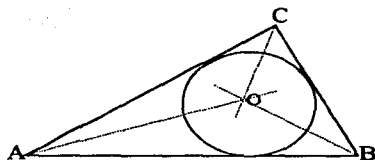


Como  $AB = 4\text{m}$ ,  $AC = 3.2\text{m}$  y  $BC = 2.4\text{m}$ . El triángulo ABC es escaleno, se trazan las mediatrices para cada uno de los lados y se encuentra el punto de intersección (circuncentro).

Al trazar la circunferencia circunscrita, si observamos la figura:

$AB = \text{diámetro} = 4\text{m}$ , entonces el radio de la circunferencia es  $AB = \frac{1}{2}(4) = 2\text{m}$ , por lo tanto  $r = 2\text{m}$

69.-



Se trazan las bisectrices de cada vértice para obtener el incentro que es el punto donde se intersectan y es el centro de la circunferencia inscrita en el triángulo ABC.  $AB = 4\text{ m}$ ,  $AC = 3.2\text{ m}$ ,  $BC = 2.4\text{ m}$ ,  $r = ?$ . Si observamos la figura el triángulo ABC queda dividido en tres triángulos: el AOB, el triángulo BOC y el AOC. Tienen los tres una altura igual al radio de la circunferencia inscrita y de base uno de los lados del triángulo ABC. Calcularemos ahora el área de cada triángulo:

$$\text{Área}(\text{triángulo AOC}) = \frac{1}{2} (AC)(r) = \frac{1}{2} (3.2)(r),$$

$$\text{Área}(\text{triángulo BOC}) = \frac{1}{2} (BC)(r) = \frac{1}{2} (2.4)(r),$$

$$\text{Área}(\text{triángulo AOB}) = \frac{1}{2} (AB)(r) = \frac{1}{2} (4)(r); r \text{ es la altura de cada triángulo.}$$

Para calcular el área del triángulo ABC, sumamos el área de los tres triángulos anteriores  $\text{Área}(\text{triángulo ABC}) = \text{Área}(\text{triángulo AOC}) + \text{Área}(\text{triángulo BOC}) + \text{Área}(\text{triángulo AOB}) = \frac{1}{2} 3.2 r + \frac{1}{2} 2.4 r + \frac{1}{2} 4 r = \frac{1}{2} 9.6 r = 4.8 r$ . Entonces el  $\text{Área}(\text{triángulo ABC}) = 4.8r$  despejando  $r$ , tenemos lo siguiente:  $r = (1/4.8) \text{Área}(\text{triángulo ABC})$ .

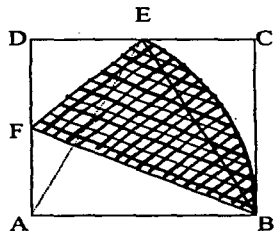
Para calcular el área de un triángulo, cuando sólo tenemos la medida de sus lados utilizamos la fórmula de Herón:  $\text{Área} = \sqrt{p(p-a)(p-b)(p-c)}$  donde  $p$  es el semiperímetro y  $AB = a$ ,  $BC = b$  y  $AC = c$ .  $p = \frac{1}{2} (3.2 + 2.4 + 4) = \frac{1}{2} (9.6) = 4.8$ .

Utilizando la fórmula de Herón para calcular el Área:

$$\text{Área}(\text{triángulo ABC}) = \sqrt{4.8(4.8-4)(4.8-2.4)(4.8-3.2)} = \sqrt{14.7456} = 3.84 \text{ m}^2$$

$$\text{Como } r = (1/4.8), \text{ el área}(\text{triángulo ABC}) = (1/4.8)(3.84) = 0.8\text{m}$$

70.-



Observando la figura, el área sombreada = área(triángulo BEF) + área(sector circular BEC) (\*1\*).

El área(triángulo BEF) = área(cuadrado ABCD) - área(triángulo AFB) - área(triángulo DEF) - área(triángulo BCE) =  $4^2 - \frac{1}{2} [(4)(2) + (2)(2) + (4)(2)] = 16 - 4 - 2 - 4 = 6$ .

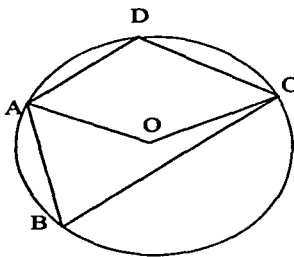
Observando el triángulo AFB donde FB = hipotenusa =  $\sqrt{(AF)^2 + (AB)^2} = \sqrt{(2)^2 + (4)^2} = \sqrt{20} = 2\sqrt{5}$ , como el triángulo BEF es isósceles entonces FB = BE =  $2\sqrt{5}$ .

Si unimos A con E se forma otro triángulo ABE isósceles en donde AE = BE =  $2\sqrt{5}$ , el  $\angle BAE = \angle ABE = 65^\circ$ , como  $360^\circ/65 = 5.53^\circ = 6^\circ$ ; por lo tanto el área(sector circular ABE) =  $\frac{1}{6} (\pi) r^2 = \frac{1}{6} (\pi) (2\sqrt{5})^2 = \frac{1}{6} (\pi) (4)(5) = (20)/6 (\pi) = (10)/3 (\pi)$ , ya que  $r = BE = 2\sqrt{5}$ .

El área(triángulo ABE) =  $\frac{1}{2} (\text{base})(\text{altura}) = \frac{1}{2} (4)(4) = 8$ ; la altura se obtiene mediante el teorema de Pitágoras, La altura(triángulo ABE) =  $\sqrt{(BE)^2 - (\frac{1}{2} (AB))^2} = \sqrt{(2\sqrt{5})^2 - (2)^2} = \sqrt{20 - 4} = \sqrt{16} = 4$ . Por otra parte obtenemos:

El área(sector circular BE) = área(sector circular ABE) - área(triángulo ABE) =  $\frac{10}{3}(\pi) - 8$ . Por (\*1\*) el área(figura sombreada) =  $6 + \frac{10}{3}(\pi) - 8 = \frac{10}{3}(\pi) - 2$

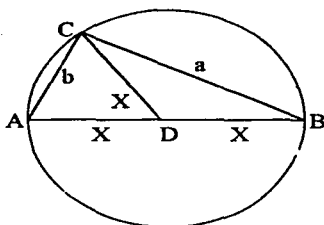
71.-



Observando la figura, el ángulo central AOC =  $2(\angle ABC)$  y el  $\angle COA = 2(\angle ADC)$  ya que "Un ángulo inscrito es la mitad que el ángulo central correspondiente al arco determinado por los lados del ángulo inscrito".

El  $\angle AOC + \angle COA = 360^\circ$  entonces el  $\angle ABC + \angle ADC = 180^\circ$  y por lo tanto los ángulos opuestos de un cuadrilátero inscrito en una circunferencia son suplementarios

72.-

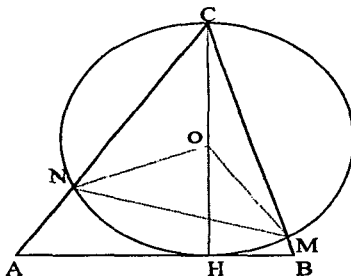


Trazamos una circunferencia y el triángulo ABC con diámetro AB y centro D. Una forma de construir los triángulos es que tengan la misma base  $x$  y compartan un mismo vértice, como en la figura, los triángulos ACD y BCD son isósceles por lo que tienen dos ángulos iguales  $\angle CAD = \angle ACD$ . En el triángulo ABC tenemos que:

Como  $AB = \text{diámetro}$  y los dos vértices del triángulo se encuentran en el diámetro entonces el  $\angle ACB = 90^\circ$ . Utilizando el Teorema de Pitágoras tenemos que:

$$\text{Hipotenusa}^2 = (2x)^2 = a^2 + b^2, \text{ despejando } x = \sqrt{\frac{1}{4}(a^2 + b^2)} = \frac{1}{2}\sqrt{(a^2 + b^2)}.$$

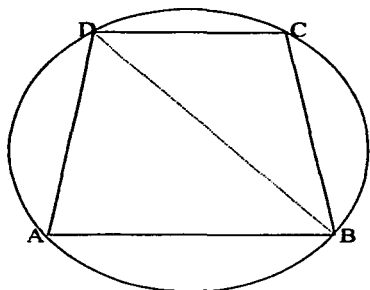
73.-



Al observar el triángulo OMN y utilizando la desigualdad triangular  $MN < OM + ON$  (\*1\*).

Como OM y ON son radios de la circunferencia, su suma es igual al diámetro (CH) de la circunferencia.  $CH = OM + ON$  por lo tanto por (\*1\*)  $MN < CH$

74.-

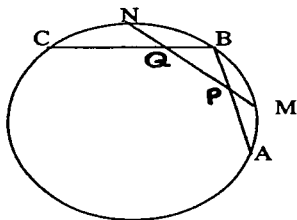


El trapecio ABCD con AB paralelo a CD está inscrito en la circunferencia de arriba. Uniendo B con D, los ángulos ABD y el  $\angle$  BDC son iguales ya que son ángulos alternos internos entre paralelas.

Como son iguales los ángulos sus cuerdas correspondientes son iguales también.

La cuerda BC = cuerda AD; por lo tanto se trata de un trapecio isósceles ya que BC = AD

75.-



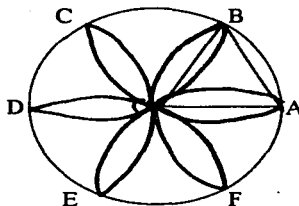
Si observamos la figura, tenemos que demostrar que el triángulo BPQ es isósceles.

El  $\angle$  BPQ =  $\frac{1}{2}$  (arco AM + arco BN), ya que "Un ángulo formado por dos cuerdas que se intersecan en el interior de un círculo tiene una medida igual a la semisuma de los arcos interceptados". Por el mismo teorema el  $\angle$  BQP =  $\frac{1}{2}$  (arco BM + arco NC), como el arco AM = arco BM y el arco BN = arco NC entonces  $\angle$  BPQ =  $\frac{1}{2}$  (arco AM + arco BN) =  $\frac{1}{2}$  (arco BM + arco NC) =  $\angle$  BQP.

De esto podemos concluir que los ángulos son iguales y por lo tanto el triángulo BPQ es isósceles y los lados BP = BQ



76.-

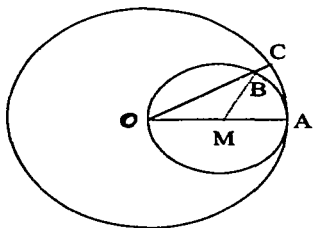


Observando la figura, siendo O el centro de la circunferencia, se tiene el triángulo AOB equilátero con lado igual a r. El ángulo OBA mide  $60^\circ$ , por lo que la longitud del arco:  $OA = \frac{1}{6}[(\pi)(2r)] = \frac{1}{3}[(\pi)(r)]$ .

El perímetro de la rosa es doce veces dicho valor.

Por lo tanto, el perímetro de la rosa =  $12 [\frac{1}{3}(\pi)(r)] = 4 [(\pi)(r)]$ , o sea dos veces la longitud de la circunferencia

77.-

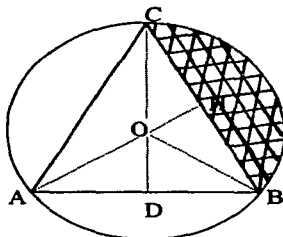


El arco  $AB = r < AMB$  y el  $< AMB = 2 < AOB = 2 < AOC$ , ya que " Todo ángulo inscrito en una circunferencia es igual a la mitad del ángulo central que subtende el mismo arco ".

En la segunda circunferencia al arco  $AC = 2r < AOC = r (2 < AOC) = r (< AMB) =$  arco AB.

Por lo tanto el arco  $AB =$  arco AC

78.-



Por ser ABC triángulo equilátero entonces  $AB = BC = AC = 8\text{m}$ . Sea O el circuncentro, que es el punto donde se cortan las tres mediatrices de un triángulo y es el centro de la circunferencia circunscrita. Tenemos que encontrar el área de la figura sombreada, por lo que la altura del triángulo ABC es igual a CD.

Por el teorema de Pitágoras observamos el triángulo rectángulo BCD entonces:  
 $8^2 = (CD)^2 + (AB/2)^2$ ,  $64 = (CD)^2 + 4^2$ , despejando CD obtenemos lo siguiente :

$$CD = \sqrt{64 - 16} = \sqrt{48} = \sqrt{(4)(4)(3)} = \sqrt{4 \cdot 4 \cdot 3} = (2)(2)\sqrt{3} = 4\sqrt{3}\text{ m}$$

Como se trata de un triángulo equilátero el circuncentro es el mismo que el baricentro.

Por el teorema "El Baricentro se encuentra a  $1/3$  de la base y a  $2/3$  de cada vértice".

$$\text{Entonces } OB = \frac{2CD}{3} = \frac{2(4\sqrt{3})}{3} = \frac{8\sqrt{3}}{3}\text{ m, ya que } CD = 4\sqrt{3}\text{ m}$$

Observando la figura el triángulo BOC, necesito calcular la altura del triángulo porque ya conozco su base.

Como  $OB = \frac{8\sqrt{3}}{3}$  y el triángulo BOH, es rectángulo por el teorema de Pitágoras

$$(OB)^2 = (OH)^2 + (BC/2)^2 = (OH)^2 + 4^2 = (OH)^2 + 16 \text{ despejando OH tenemos}$$

$$OH^2 = (OB)^2 - 16 = \left(\frac{1}{3}(8\sqrt{3})\right)^2 - 16 = \frac{64 \cdot 3}{9} - 16 = \frac{64 \cdot 3 - 16 \cdot 9}{9} = \frac{64 - 48}{3} = \frac{16}{3}$$

$$OH = \sqrt{\frac{16}{3}} = \frac{\sqrt{16}}{\sqrt{3}} = \frac{4}{\sqrt{3}}\text{ m}$$

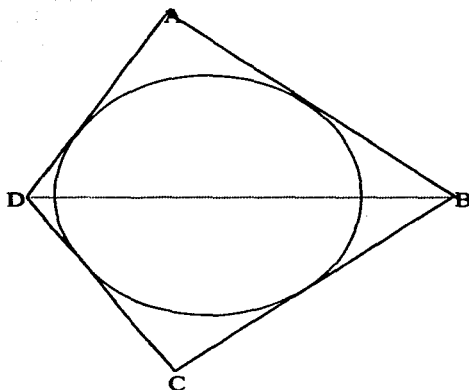
$$\text{El área( triángulo BOC) = base x altura} = \frac{8\sqrt{3}}{2} \cdot \frac{4}{2\sqrt{3}} = \frac{32}{2\sqrt{3}} = \frac{16}{\sqrt{3}}\text{ m}^2$$

Como el sector BOC es la tercera parte de una circunferencia, entonces

$$\text{El área(Sector BOC) = } \frac{1}{3}(\text{radio})^2 = \frac{1}{3}(OB)^2 = \frac{1}{3}\left(\frac{8\sqrt{3}}{3}\right)^2 = \frac{1}{3}\left(\frac{64 \cdot 3}{9}\right) = \frac{1}{3}\left(\frac{64}{3}\right) = \frac{64}{9}$$

$$\text{área(figura sombreada) = área(Sector BOC) - área( triángulo BOC) = } \frac{64}{9} - \frac{16}{\sqrt{3}}$$

79.-



La fórmula para calcular el área de una circunferencia es:

Área =  $\pi r^2$  = semiperímetro  $r$  (\*1\*); ya que el perímetro de una circunferencia =  $\pi(2r)$ , despejando:

$\pi(r) = \frac{1}{2}$  perímetro = semiperímetro

Despejando de la fórmula (\*1\*), el semiperímetro =  $\frac{\text{Área de la circunferencia}}{r} = \frac{22\text{m}^2}{2\text{m}} = 11 \text{ m}$

En la figura, Al trazar la diagonal BD se forman dos triángulos rectángulos congruentes: el triángulo ABD y el triángulo BCD

Podemos escribir el siguiente sistema de ecuaciones, para encontrar el valor de los lados AD y AB:

$$(1) \quad AD + AB = 11$$

$$(2) \quad (AD)(AB) = 22$$

ya que el semiperímetro = 11 m

es el doble del área del triángulo ABD

despejando de (1) AB tenemos

$$AB = 11 - AD$$

sustituyendo en (2)

$$(AD)(11 - AD) = 22$$

quitando paréntesis y acomodando

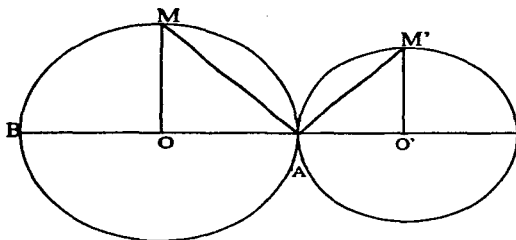
$$(AD)^2 - 11AD + 22 = 0$$

aplicando fórmula general :

$$AD = \frac{-b \pm \sqrt{b^2 - 4ac}}{2a} \quad \text{sea } b = -11, a = 1 \text{ y } c = 22 \quad AD = \frac{-(-11) \pm \sqrt{(-11)^2 - 4(1)(22)}}{2(1)}$$

$$AD = \frac{1}{2} (11 \pm \sqrt{33}); \text{ por lo tanto } AD = \frac{1}{2} (11 + \sqrt{33}), \text{ y } AB = 11 - \frac{1}{2} (11 + \sqrt{33}) = 11 - \frac{1}{2} (11 + \sqrt{33}) = \frac{1}{2} (22 - 11 - \sqrt{33}) = \frac{1}{2} (11 - \sqrt{33})$$

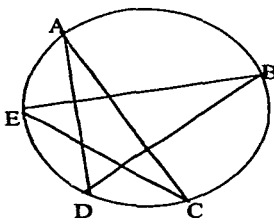
80.-



Para demostrar que  $OM$  es paralela a  $O'M'$ , basta con demostrar que el  $\angle BOM = \angle M'O'B$ . Si observamos la figura el triángulo  $AMO$  es isósceles ya que  $MO = AO$ , por ser radios y por lo tanto el  $\angle MAO = \angle AMO$ . De igual manera el triángulo  $AM'O'$  es isósceles ya que  $M'O' = AO'$ , por ser radios y por lo tanto el  $\angle M'AO' = \angle AM'O'$ . Como el  $\angle BOM$  es exterior entonces el  $\angle BOM = \angle MAO + \angle AMO = 2(\angle MAO)$  ya que el  $\angle MAO = \angle AMO$ , despejando  $\angle MAO = \frac{1}{2}(\angle BOM)$ .

El  $\angle M'O'A = 180^\circ - 2(\angle M'AO')$  ya que el  $\angle M'AO' = \angle AM'O'$ . Observando el triángulo  $AM'O'$  tenemos que el  $\angle M'AO' + \angle AM'O' + \angle M'O'A = 180^\circ$ ,  $2(\angle M'AO') + \angle M'O'A = 180^\circ$ , despejando  $\angle M'AO' = \frac{1}{2}[180^\circ - \angle M'O'A]$ . Como los ángulos  $MAO$  y  $M'AO'$  son complementarios por ser las cuerdas  $AM$  y  $AM'$  perpendiculares entonces  $90^\circ = \angle MAO + \angle M'AO' = \frac{1}{2}(\angle BOM) + \frac{1}{2}(180^\circ - \angle M'O'A) = 90^\circ + \frac{1}{2}[\angle BOM - \angle M'O'A]$ ,  $0 = \angle BOM - \angle M'O'A$ , por lo tanto concluimos que  $\angle BOM = \angle M'O'A$  y como estos ángulos son correspondientes, las rectas  $OM$  y  $O'M'$  son paralelas

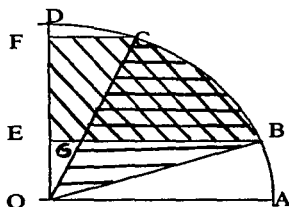
81.-



Para poder resolver éste problema podemos utilizar el teorema que dice: "La medida del ángulo inscrito es la mitad del arco que abre". Por lo que  $\angle \text{inscrito}(A) = \frac{1}{2} \text{arco}(CD)$ ,  $\angle \text{inscrito}(B) = \frac{1}{2} \text{arco}(DE)$ ,  $\angle \text{inscrito}(C) = \frac{1}{2} \text{arco}(EA)$ ,  $\angle \text{inscrito}(D) = \frac{1}{2} \text{arco}(AB)$  y el  $\angle \text{inscrito}(E) = \frac{1}{2} \text{arco}(BC)$ ; si sumamos todos los ángulos inscritos tenemos que:

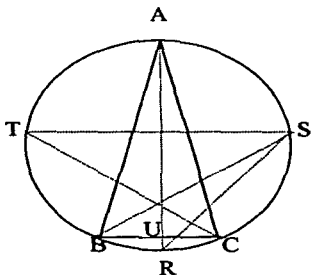
$\angle \text{inscrito}(A) + \angle \text{inscrito}(B) + \angle \text{inscrito}(C) + \angle \text{inscrito}(D) + \angle \text{inscrito}(E) = \frac{1}{2} [\text{arco}(CD) + \text{arco}(DE) + \text{arco}(EA) + \text{arco}(AB) + \text{arco}(BC)] = \frac{1}{2}(2\pi) = \pi$ ; ya que la suma de todos los arcos es la circunferencia completa

82.-



Al observar las figuras que se quiere demostrar su equivalencia, podemos notar que ambas contienen a la figura BCG, entonces lo que debemos de demostrar es que el triángulo BGO es equivalente al trapecio CFEG, si aumentamos el triángulo EGO al triángulo BGO y al trapecio CFEG, por lo tanto tenemos que demostrar que los triángulos BEO y COF son equivalentes. El lado  $OB = OC$  por ser radios del círculo. Como  $OA$  es perpendicular a  $OD$  y además los arcos  $AB$  y  $CD$  son iguales por hipótesis entonces  $FC = EO$ .  $EB = FO$  por ser el cateto  $OE =$  cateto  $FC$  y la hipotenusa  $OC =$  hipotenusa  $OB$ . Por el criterio de congruencia III, los dos triángulos  $BEO$  y  $COF$  son congruentes y concluyendo finalmente el triángulo  $BGO$  y el trapecio  $CFEG$  son equivalentes y como conclusión final la figura  $EBCF$  es equivalente al sector  $OBC$

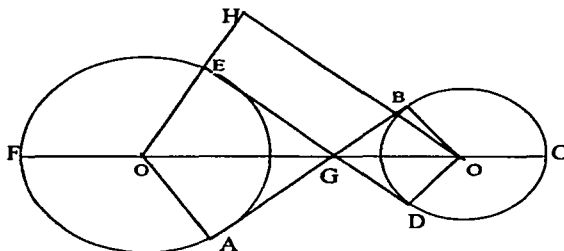
83.-



Como  $AB = AC$  y  $R, S$  y  $T$  las intersecciones de las alturas de los vértices  $A, B$  y  $C$  y  $U$  la intersección de la altura del vértice  $A$  con la base  $BC$ . Entonces tenemos lo siguiente al observar la figura:

$\angle RST = \angle RSB + \angle BST$  (\*1\*), pero el  $\angle RSB = \angle RAB$  ya que abren el mismo arco, además el  $\angle RAB = 90^\circ - \angle ABC$ , por ser el triángulo  $ABU$  rectángulo. Análogamente, el  $\angle BST = \angle BCT = 90^\circ - \angle ABC$ . Por (\*1\*)  $\angle RST = 90^\circ - \angle ABC + 90^\circ - \angle ABC = 180^\circ - 2(\angle ABC) = \angle BAC$

84.-



En la figura las tangentes son AB y DE. O'A y OB son perpendiculares a AB. O'E y OD son perpendiculares a DE. Al completar el rectángulo EDOH se observa que  $EH = DO = r$ . Por lo tanto  $O'H = O'E + EH = 4r + r = 5r$ , por hipótesis el radio del círculo grande es cuatro veces más grande que el chico.

Al observar el triángulo rectángulo O'HO, el cateto O'H = 5r y la hipotenusa (O'O) = 10r. Como el cateto O'H mide la mitad que la hipotenusa entonces el ángulo  $\angle HO'O = 60^\circ$ , y por lo tanto el  $\angle AO'E = 2 \angle HO'O = 2(60^\circ) = 120^\circ$ . Como el  $\angle AO'E = 120^\circ$  entonces el ángulo  $\angle EFA = 360^\circ - \angle AO'E = 360^\circ - 120^\circ = 240^\circ$ .

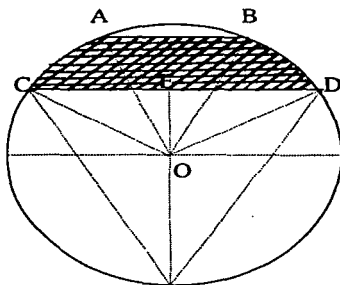
Para calcular la longitud del arco EFA, utilizamos la fórmula para calcular el perímetro de la circunferencia grande =  $2(\pi)(r)$ , como el ángulo del arco EFA es  $240^\circ$ , que representa las  $\frac{2}{3}$  partes de una circunferencia. El perímetro del arco EFA =  $2(\pi)(4r)(\frac{2}{3}) = \frac{16}{3}(\pi)(r)$

El  $\angle HOO' = 180^\circ - (\angle OHO' + \angle HO'O) = 180^\circ - (90^\circ + 60^\circ) = 30^\circ$ ; El  $\angle DOB = 120^\circ$  y el  $\angle DCB = 240^\circ$ , por lo que el arco DCB es las  $\frac{2}{3}$  partes de la circunferencia pequeña. Entonces la longitud del arco DCB =  $2(\pi)(r)(\frac{2}{3}) = \frac{4}{3}(\pi)(r)$ .

Si observamos la figura  $AB = ED = OH$ , calculemos ahora la longitud de OH.

Por el teorema de Pitágoras,  $(O'O)^2 = (O'H)^2 + (OH)^2 = (5r)^2 + (OH)^2$ , despejando obtenemos lo siguiente  $OH^2 = (10r)^2 - (5r)^2 = 75r^2$ , entonces  $OH = 5\sqrt{3}r$ . Por lo tanto  $AB + ED = 2(5\sqrt{3}r) = 10\sqrt{3}r$ .

El perímetro total de la figura ABCDEFA es  $\frac{16}{3}(\pi)(r) + \frac{4}{3}(\pi)(r) + 10\sqrt{3}r$



Se pide calcular el área de la superficie rayada. Suponemos, como aparece en la figura, que las dos cuerdas caen del mismo lado,  $AB =$  lado del exágono regular  $CD =$  lado del triángulo equilátero inscrito y  $O$  el centro del círculo y sea  $E = \frac{1}{2} (CD)$ .

El lado del exágono  $= R =$  radio de la circunferencia, ya que el círculo está constituido de 6 triángulos equiláteros que conforman un exágono y cada lado del triángulo equilátero es igual a  $R$ . El lado del triángulo equilátero inscrito  $= R\sqrt{3}$ , si analizamos el triángulo rectángulo  $EDO$  donde  $OD =$  hipotenusa  $= R$ , el  $\angle EDO = 30^\circ$  y  $DE =$  cateto adyacente entonces  $CD = 2[\text{coseno } 30^\circ = \text{cateto adyacente/hipotenusa}] = 2(.866)R$ , como  $2(.866) = \sqrt{3}$  entonces  $CD = R\sqrt{3}$ .

El área solicitada  $=$  Área sector  $COD -$  Área(triángulo  $CDO) - [\text{Área sector } AOB - \text{Área(triángulo } AOB)]$

Área sector  $AOB = 1/6 (\pi R^2)$ , ya que el  $\angle AOB = 60^\circ$  por ser  $AOB$  un triángulo equilátero, concluimos que el sector  $AOB$  es la sexta parte del círculo.

El Área(triángulo  $AOB) = \frac{1}{2} (\text{base})(\text{altura}) = \frac{1}{2} (R) [\frac{1}{2} (R\sqrt{3})] = \frac{1}{4} R^2 \sqrt{3}$ .

La Altura(triángulo  $AOB) = \sqrt{(OB)^2 - (\frac{1}{2} AB)^2} = \sqrt{R^2 - (\frac{1}{2} R\sqrt{3})^2} = \sqrt{\frac{1}{4} R^2} = \frac{1}{2} R\sqrt{3}$ .

Área sector  $COD = 1/3 (\pi R^2)$ , ya que el ángulo  $COD = 120^\circ$ , como el  $\angle DCO = 30^\circ$  y  $\angle CDO = 30^\circ$  entonces  $\angle COD = 180^\circ - (\angle DCO + \angle CDO) = 180^\circ - (30^\circ + 30^\circ) = 120^\circ$ , concluimos que el sector  $COD$  es la tercera parte del círculo.

El Área(triángulo  $CDO) = \frac{1}{2} (\text{base})(\text{altura}) = \frac{1}{2} (R\sqrt{3}) (\frac{1}{2} 3R) = \frac{3}{4} R^2 \sqrt{3}$ .

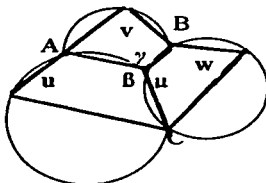
La Altura(triángulo  $CDO) = \sqrt{(OD)^2 - (\frac{1}{2} CD)^2} = \sqrt{R^2 - [\frac{1}{2} (R\sqrt{3})]^2} = \frac{3}{2} R$

La base(triángulo  $CDO) = R\sqrt{3} =$  lado del triángulo equilátero.

Por lo tanto:

El área solicitada  $= 1/3 (\pi R^2) - \frac{3}{4} (R^2 \sqrt{3}) - [1/6 (\pi R^2) - \frac{1}{4} (R^2 \sqrt{3})] = 1/3 (\pi) R^2$

86.-



Sean A, B y C los puntos donde se intersectan dos de las circunferencias. Si unimos los puntos A, B y C con el punto donde se intersectan los tres círculos y sean  $\beta$ ,  $\gamma$  y  $\mu$  los ángulos de intersección de dos circunferencias. Se obtienen tres cuadriláteros cíclicos. De donde:

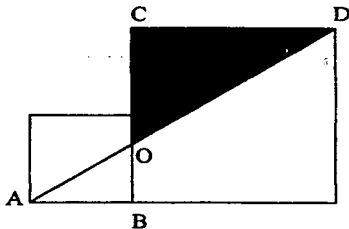
El  $\angle u + \angle \beta = 180^\circ$ ,  $\angle v + \angle \gamma = 180^\circ$  y  $\angle w + \angle \mu = 180^\circ$ , ya que " Los ángulos opuestos de un cuadrilátero cíclico suman  $180^\circ$ ".

Por lo tanto,  $\angle u + \angle \beta + \angle v + \angle \gamma + \angle w + \angle \mu = 3(180^\circ)$ . Luego, despejando:

$$\angle u + \angle v + \angle w = 3(180^\circ) - (\angle \beta + \angle \gamma + \angle \mu) = 3(180^\circ) - 360^\circ = 540^\circ - 360^\circ = 180^\circ$$

### e) Proporcionalidad y semejanza

87.-



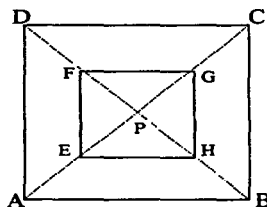
Sean A, B, C y D los vértices del cuadrado grande y pequeño, O la intersección de AD con BC,  $CD = 6$  y  $AB = 3$ .

Observemos que el triángulo ABO es semejante al triángulo CDO en razón 2:1, ya que  $\angle AOB = \angle COD$  por ser opuestos por el vértice y  $\angle ABO = \angle DCO = 90^\circ$  por el criterio *aa* de triángulos semejantes, también  $CD = 2(AB)$ . Entonces  $CO = 2(BO)$ , pero como  $CO + BO = 6$  (\*1\*), sustituyendo  $CO + BO = 2(BO) + BO = 3(BO) = 6$ , despejando  $BO = 6/3 = 2$ , sustituyendo en (\*1\*)  $CO + 2 = 6$ , despejando  $CO = 6 - 2 = 4$ .

Por lo tanto, el área( triángulo COD) =  $\frac{1}{2}(\text{base})(\text{altura}) = \frac{1}{2}(CO)(CD) = \frac{1}{2}(4)(6) = 12$

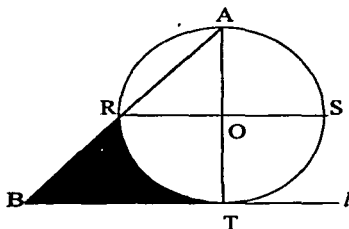


88.-



Puesto que E, F, G y H son puntos medios de los lados de AP, DP, CP y BP, los cuatro triángulos pequeños que se forman con vértice en P son semejantes a los grandes también con vértice en P, por lo tanto sus lados están en la misma razón, por lo tanto, como FP es la mitad de DP, entonces FG también es la mitad de CD. Cada lado del cuadrado EFGH mide la mitad de cada lado del cuadrado ABCD, por lo tanto el área del cuadrado EFGH es la cuarta parte del cuadrado ABCD

89.-



Los triángulos ABT y ARO son semejantes en 2:1, pues O es el punto medio de AT, y RO es paralela a BT; así, como en el triángulo ARO los lados AO y RO son iguales por ser radios de la circunferencia, también lo son sus correspondientes en el triángulo ABT, es decir,  $BT = AT = 3$ ; por tanto  $BT = 3$ .

El área buscada = área( triángulo ABT ) - [área( triángulo ARO) + área(cuarto del círculo)] (\*1\*).

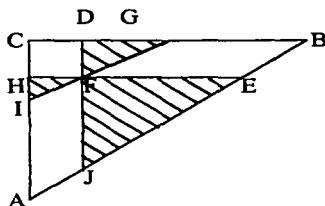
$$\text{El área( triángulo ABT )} = \frac{1}{2} (\text{base})(\text{altura}) = \frac{1}{2} (BT)(AT) = \frac{1}{2} (3)(3) = 9/2$$

$$\text{El área( triángulo ARO )} = \frac{1}{2} (\text{base})(\text{altura}) = \frac{1}{2} (RO)(AO) = \frac{1}{2} (3/2)(3/2) = 9/8$$

$$\text{El área(cuarto del círculo)} = \frac{1}{4} [\pi (\text{radio})^2] = \frac{1}{4} [\pi (RO)^2] = \frac{1}{4} [\pi (3/2)^2] = \frac{1}{4} [\pi (9/4)] = 9/16\pi$$

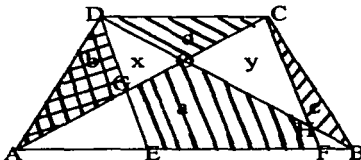
$$\text{Por (*1*), el área buscada} = 9/2 - ( 9/8 + 9/16\pi ) = 27/8 - 9/16\pi$$

90.-



En la figura los triángulos EFJ y DGF son semejantes, el ángulo  $GDF = \angle EFJ = 90^\circ$  y los ángulos DFG y el  $\angle FJE$  son iguales. Por el criterio aa los triángulos son semejantes. Lo mismo pasa con los triángulos DFG y FHI son semejantes ya que el ángulo  $GDF = \angle FHI = 90^\circ$  y los ángulos DFG y el  $\angle FIH$  también son iguales. Por el criterio aa los triángulos son semejantes. entonces, los triángulos  $FHI \sim DFG \sim EFJ$ . Como son semejantes sus lados y sus áreas son proporcionales. Comparemos el paralelogramo BEFG con el triángulo EFJ que tiene área igual a 18: tienen la misma base y la altura del paralelogramo es igual a la del triángulo de área 8, la del triángulo menor. Entonces la razón entre las dos áreas de los triángulos es  $8/18 = 4/9$ , calculando la raíz cuadrada de  $4/9$  obtenemos  $2/3$  que es la razón entre las dos áreas. Por lo tanto el área(paralelogramo GBEF) =  $(2)(2/3)(18) = 24$ . De manera análoga obtenemos el área del paralelogramo AJFI: tiene la misma base que la del triángulo FJE y su altura es  $1/3$  de la de éste por lo que  $\text{área}(\text{paralelogramo AJFI}) = (2/3)(18) = 12$ . El rectángulo CDFH tiene la misma altura que el paralelogramo GBEF, pero su base es  $1/3$  de la de éste por lo que el  $\text{área}(\text{paralelogramo CDFH}) = (1/3)(24) = 8$ . Por lo tanto el  $\text{área}(\text{triángulo ABC}) = \text{área}(\text{triángulo FJE}) + \text{área}(\text{paralelogramo GBEF}) + \text{área}(\text{triángulo DFG}) + \text{área}(\text{paralelogramo AJFI}) + \text{área}(\text{triángulo FHI}) + \text{área}(\text{paralelogramo CDFH}) = 18 + 24 + 8 + 12 + 2 + 8 = 72$

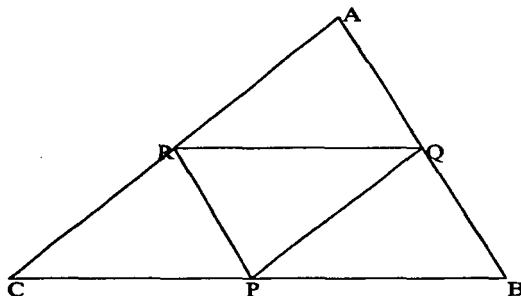
91.-



Sea O, G y H los puntos donde se intersectan DB y AC, AC con DE y CF con DB. Sea  $x = \text{área}(\text{triángulo DGO})$  e  $y = \text{área}(\text{triángulo COH})$ . En la figura, el  $\text{área}(\text{triángulo ADC}) = \text{área}(\text{triángulo BDC})$ , tienen la misma base que es DC y los vértices A y B están en una recta paralela a DC, al sumar ambas áreas es la misma que la del paralelogramo DCEF, ya que "Triángulos (paralelogramos) que tienen la misma base y que están entre paralelas tienen la misma área". Por lo tanto  $\text{área}(\text{paralelogramo DCEF}) = a + x + y + d =$

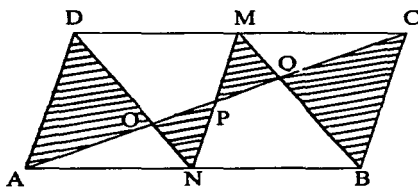
área(triángulo ADC) + área(triángulo BDC) =  $b + x + d + d + y + c$ . Entonces  $a + x + y + d = b + x + 2d + y + c$ , despejando  $a = b + d + c$

92.-



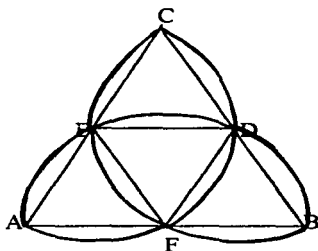
Los triángulos ARQ y ACB son semejantes puesto que comparten el ángulo RAQ y la razón entre los lados AR y AC es  $\frac{1}{2}$  al igual que la razón entre los lados AQ y AB. Por lo tanto RQ es la mitad de CB. Análogamente se demuestra que PQ es la mitad de CA y PR la mitad de AB, por lo tanto el perímetro de PQR es la mitad del perímetro de ABC

93.-



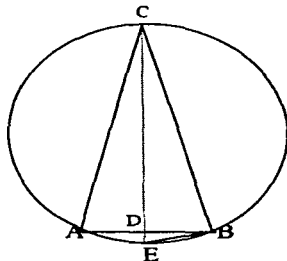
Sean O, P y Q las intersecciones de las rectas AC con DN, AC con MN y AC con BM. El triángulo ADO es semejante al triángulo NOP en razón 1:2, así  $AO = 2(OP)$ . Como los triángulos AON y ONP comparten la altura trazada desde el vértice N, entonces el área(triángulo AON) = 2 área(triángulo ONP). Como  $DO = 2(ON)$ , el área(triángulo ADO) = 2 área(triángulo AON). Luego el área(triángulo ADO) + área(triángulo ONP) =  $5/6$  [área(triángulo ADN)] =  $5/6 (\frac{1}{4}) = 5/24$ , ya que el área(triángulo ADN) =  $\frac{1}{4}$  área(paralelogramo ABCD) =  $\frac{1}{4} (1) = \frac{1}{4}$ . Análogamente el área de la región sombreada en el triángulo BCM también es  $5/24$ , y el total del área sombreada es  $2(5/24) = 10/24 = 5/12$

94.-



En la figura la semicircunferencia de diámetro AB, tiene su centro en el punto medio F de AB y su radio es la mitad del lado del triángulo, o sea, es igual a la longitud de la mediana que parte del punto F y pasa por los otros dos puntos medios E y D. El triángulo AFE es semejante al triángulo ABC, por lo que  $EF = \frac{1}{2}(AB) = AE = AF$  y además el ángulo  $AFE = 60^\circ$ , ya que es un triángulo equilátero. Entonces la longitud del arco  $EA = \frac{1}{6}(\sqrt{3}r) = \frac{1}{6}(\sqrt{3}AB)$ ; ya que el  $\angle AFE = 60^\circ$  y es la sexta parte de una circunferencia.  $AB = 2r$  por lo que el perímetro de la rosa es:  
 Perímetro =  $6 \left[ \frac{1}{6}(\sqrt{3}AB) \right] = (\sqrt{3})(AB)$ ; ya que son seis arcos exteriores del triángulo ABC

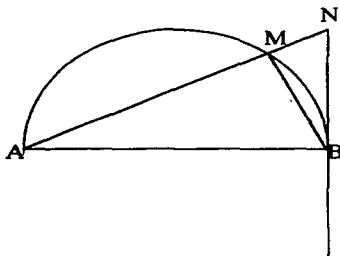
95.-



Observando la figura, se tiene que por ser ABC un triángulo isósceles, los ángulos CAB y CBA son iguales. A su vez los ángulos inscritos CAB y CEB son iguales ya que "Dos ángulos inscritos que sustentan el mismo arco son iguales". En consecuencia, los ángulos CBA y CEB son iguales.

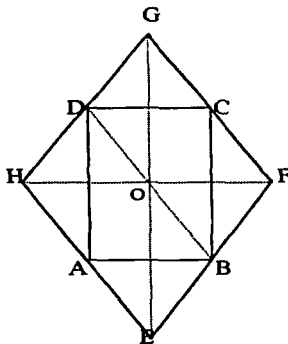
Los triángulos ECB y CDB tienen el ángulo BCE en común, son entonces semejantes por el criterio *aa* y por lo tanto:  $\frac{CE}{CB} = \frac{CB}{CD}$ . Despejando CB de la proporción tenemos que  $(CB)^2 = (CD)(CE)$ .

96.-



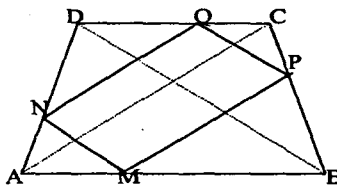
Sea  $r$  el radio de la circunferencia. Si unimos el punto  $M$  con  $B$ , observando la figura, vemos que los triángulos  $AMB$  y  $ANB$ , son rectángulos y tienen un ángulo común en el vértice  $A$ , por lo que por el criterio  $aa$ , los triángulos son semejantes y tenemos la siguiente proporción:  $AM/AB = AB/AN$ . En consecuencia:  
 $(AM)(AN) = (AB)^2$ , y como  $AB = \text{diámetro} = 2r$  entonces  $(AM)(AN) = (2r)^2 = 4r^2$

97.-



El perímetro de rectángulo  $ABCD = 92\text{cm}$ , y la diagonal menor  $= FH = 32\text{ cm}$ . Al observar el dibujo, podemos escribir lo siguiente: Semiperímetro del rectángulo  $= (AB + AD) = \frac{1}{2}(92) = 46$  ya que el área del rectángulo es  $92\text{ cm}$ . Dado que los puntos  $A, B, C$  y  $D$  son los puntos medios de los lados del rombo, podemos escribir:  $AB = \frac{1}{2} FH = \frac{1}{2}(32) = 16\text{cm}$ , ya que la razón de semejanza entre los triángulos  $EFH$  y  $ABE$  es  $\frac{1}{2}$ . Como consecuencia:  $AD = OE = \text{semiperímetro} - AB = 46 - 16 = 30\text{ cm}$ . Aplicando el teorema de Pitágoras para el triángulo rectángulo  $EFO$  tenemos que:  
 $EF = \text{hipotenusa} = \text{lado del rombo} = \sqrt{(OE)^2 + (OF)^2} = \sqrt{30^2 + 16^2} = \sqrt{900 + 256} = \sqrt{1156} = 34\text{ cm}$ , por ser  $AB = OF$  y  $OE = AD$

98.-



Observando la figura tenemos que:

$$\frac{AN}{AD} = \frac{1}{3} = \frac{AM}{AB}$$

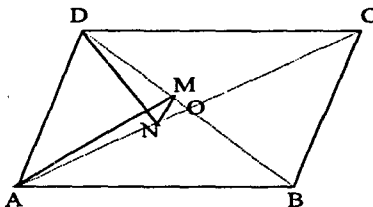
$$\frac{BM}{BA} = \frac{2}{3} = \frac{BP}{BC}$$

$$\frac{CP}{CB} = \frac{1}{3} = \frac{CQ}{CD}$$

$$\frac{DQ}{DC} = \frac{2}{3} = \frac{DN}{DA}$$

Por el teorema de Tales de Mileto, estas igualdades implican respectivamente que MN es paralela con BD, MP lo es con AC, PQ lo es con BD y QN lo es con CB.

99.-



Observando la figura, los triángulos ABD y ABC, como AM y DN son bisectrices entonces:

$$\frac{DM}{MB} = \frac{AD}{AB}$$

$$\frac{AN}{NC} = \frac{AD}{DC} \text{ y como } AB = DC \text{ por ser lados paralelos de un paralelogramo}$$

Entonces  $\frac{DM}{MB} = \frac{AN}{NC}$  como  $DM = OD - OM$ ,  $AN = OA - ON$ ,  $MB = OM + OB$  y  $NC = ON + OC$

Sustituyendo  $\frac{OD - OM}{OM + OB} = \frac{OA - ON}{ON + OC}$  y como  $OB = OD$ ,  $OA = OC$ ; ya que las diagonales de un paralelogramo se intersectan en el punto medio. Sustituyendo

$$\frac{OD - OM}{OM + OD} = \frac{OA - ON}{ON + OA} \text{ o sea } \frac{OD}{OM} = \frac{OA}{ON} \text{ Por el Teorema de Tales de Mileto, MN es paralela con AD}$$

100.-

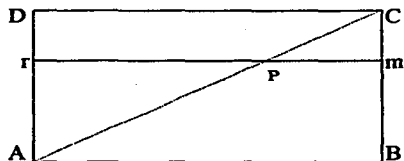


fig. 1

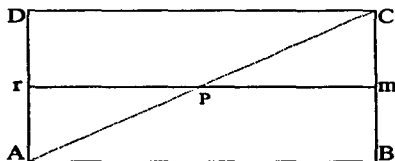


fig. 2

Veamos dos casos:

En la figura 1, cuando  $r$  pasa por  $1/3$  de  $AD$ . Sea  $Cm = 1/3$  de  $BC$   
Al observar la figura tenemos lo siguiente:

$Ar = 2/3$  de  $AD$ ,  $Cm = 1/3$  de  $BC$ ,  $rP = 2/3$  de  $rm$ ,  $Pm = 1/3$  de  $rm$ ,  $AP = 2/3$  de  $AC$  y  $PC = 1/3$  de  $AC$ .

Por lo tanto el área del triángulo  $APr = \frac{1}{2} (\text{base})(\text{altura}) = \frac{1}{2} (Ar)(rP) = \frac{1}{2} (2/3(AD))(2/3(rm)) = 4/18 (AD rm)$

El área del triángulo  $CmP = \frac{1}{2} (\text{base})(\text{altura}) = \frac{1}{2} (Cm)(mP) = \frac{1}{2} (1/3(AD))(1/3(rm)) = 1/18 (AD rm)$ , ya que  $AD = BC$ .

Si sumamos ambas áreas obtenemos lo siguiente  
Área total =  $4/18 (AD rm) + 1/18 (AD rm) = 5/18 (AD rm)$

Vamos a ver ahora el segundo caso:

En la figura 2, cuando  $r$  pasa por el punto medio de  $AD$ . Al observar la figura tenemos lo siguiente:

$Ar = \frac{1}{2}$  de  $AD$ ,  $Cm = \frac{1}{2}$  de  $BC$ ,  $rP = \frac{1}{2}$  de  $rm$ ,  $Pm = \frac{1}{2}$  de  $rm$ ,  $AP = \frac{1}{2}$  de  $AC$  y  $PC = \frac{1}{2}$  de  $AC$ .

Por lo tanto el área del triángulo  $APr = \frac{1}{2} (\text{base})(\text{altura}) = \frac{1}{2} (Ar)(rP) = \frac{1}{2} (\frac{1}{2} (AD))(\frac{1}{2} (rm)) = 1/8 (AD rm)$ , como son dos triángulos congruentes, su área es la misma, por lo tanto el área total es:

Área total =  $1/8 (AD rm) + 1/8 (AD rm) = 2/8 (AD rm) = \frac{1}{4} (AD rm)$

Si comparamos  $5/18$  con  $1/4$ , podemos concluir que  $5/18 > 1/4$  por lo que cuando  $r$  pasa por el punto medio de  $AD$ , la suma de las áreas de los triángulos es mínima

## ***IV Definiciones y teoremas***



## IV DEFINICIONES Y TEOREMAS

A continuación se presenta lista de definiciones y teoremas, muchos de ellos utilizados en las demostraciones de los 100 problemas de éste trabajo

### a) Nociones geométricas básicas

- Bisectriz: de un ángulo es la recta que divide a éste en dos ángulos iguales
- Mediatriz: de un segmento es la recta perpendicular a éste que pasa por su punto medio
- Dos rectas en el plano se dicen paralelas si coinciden o tienen intersección vacía
- Se dice que dos ángulos son adyacentes si tienen el vértice y un lado común y los lados restantes forman un par de semirectas opuestas
- Dos ángulos se dicen que son complementarios si su suma es un ángulo recto y cada uno de ellos se conoce como complemento del otro
- Dado tres puntos distintos A, B, y C se dice que son colineales, si uno cualquiera de ellos pertenece a la recta determinada por los otros dos

Teorema 1.- Los ángulos adyacentes son suplementarios

Teorema 2.- Si dos paralelas son cortadas por una secante los ángulos alternos internos son iguales

Teorema 3.- Si dos paralelas son cortadas por una secante los ángulos alternos externos son iguales

Teorema 4.- Si dos paralelas son cortadas por una secante los ángulos correspondientes son iguales

Teorema 5.- Si dos paralelas son cortadas por una secante los ángulos opuestos por el vértice son iguales

Teorema 6.- Si dos paralelas son cortadas por una secante los ángulos colaterales internos son suplementarios

Teorema 7.- Si dos paralelas son cortadas por una secante los ángulos colaterales externos son suplementarios

Teorema 8.- Cada ángulo exterior de un triángulo es mayor que cualquier ángulo interior no adyacente

Teorema 9.- La suma de los ángulos interiores de cualquier triángulo es igual a  $180^\circ$

Teorema 10.- Un ángulo exterior de un triángulo es igual a la suma de los dos ángulos interiores no adyacentes a él

Teorema 11.- La suma de los ángulos exteriores de un triángulo es de cuatro rectos

Teorema 12.- La suma de los ángulos interiores de un polígono regular de n lados es  $180^\circ(n-2)$ , donde n es el número de lados

Teorema 13.- Los ángulos interiores de un polígono regular de n lados miden  $180^\circ(n-2) / n$ , donde n es el número de lados

Teorema 14.- Los ángulos exteriores de un polígono regular de n lados miden  $360^\circ/n$ , donde n es el número de lados

## b) Congruencia y desigualdades en el triángulo

### Clasificación de los triángulos.-

- Escaleno: Triángulo que tiene sus tres lados distintos
- Equilátero: Triángulo que tiene sus tres lados iguales
- Isósceles: Triángulo que tiene dos lados iguales y uno distinto

Teorema 1.- (Desigualdad triangular) En un triángulo un lado es menor que la suma de los otros

Teorema 2.- Cada ángulo de un triángulo equilátero mide  $60^\circ$

Teorema 3.- Cada ángulo de un triángulo escaleno es diferente

Teorema 4.- Del triángulo isósceles.- Si dos ángulos de un triángulo son congruentes, entonces los lados opuestos a esos ángulos son congruentes

- Mediana: La recta que pasa por un vértice del triángulo y el punto medio del lado opuesto

Teorema 5.- La mediana de un triángulo es menor que la semisuma de los dos adyacentes

Teorema 6.- La suma de las tres medianas de un triángulo está comprendida entre el perímetro y el semiperímetro, siendo mayor que las  $\frac{3}{4}$  de perímetro

- Incentro: Punto donde se cortan las tres bisectrices de un triángulo cualquiera; es el centro de la circunferencia inscrita al triángulo

- Las alturas de un triángulo cualquiera se intersecan en un punto. Este punto se llama ortocentro del triángulo

- Punto donde se cortan las tres medianas de un triángulo cualquiera, es el baricentro

Teorema 7.- El baricentro está situado a  $\frac{1}{3}$  de la base y a  $\frac{2}{3}$  de cada vértice; se corresponde con el centro de gravedad

Teorema 8.- El baricentro de un triángulo está alineado con el ortocentro y el circuncentro, y a doble distancia del primero que del segundo

- Dos figuras son congruentes si al superponerse coinciden todos sus puntos. Entonces dos figuras congruentes tienen la misma forma y tamaño

- Criterio LLL. Los tres lados correspondientes resultan congruentes
- Criterio LAL. Dos lados correspondientes y el ángulo que forman son congruentes
- Criterio ALA. Dos ángulos correspondientes y el lado común son congruentes

- Teorema de Pitágoras.- Para cualquier triángulo rectángulo, el cuadrado de la hipotenusa es igual a la suma de los cuadrados de los catetos  $c^2 = a^2 + b^2$

**Corolario 1.-** Dos triángulos rectángulos son congruentes si tienen respectivamente iguales algún cateto y la hipotenusa

**Teorema 9.-** Si un cuadrilátero es un paralelogramo, entonces sus ángulos opuestos son congruentes.

**Teorema 10.-** Si un cuadrilátero es un paralelogramo, entonces sus lados opuestos son congruentes

**Teorema 11.-** Los ángulos colaterales internos de un paralelogramo son suplementarios

**Teorema 12.-** Si un trapecioide es isósceles, entonces cada par de ángulos de base es congruente

**Teorema 13.-** Las diagonales de un rectángulo son iguales

**Teorema 14.-** Las diagonales de un paralelogramo se midian en su centro

**Teorema 15.-** Las diagonales de un rombo (o cuadrado) son perpendiculares

**Postulado 1.-** Si dos polígonos son congruentes, entonces ellos tienen áreas iguales

**Postulado 2.-** Si dos regiones sólidas son congruentes, entonces ellos tienen el mismo volumen.

### c) Áreas de figuras

**Teorema 1.-** Dado un paralelogramo con base  $b$  y altura correspondiente  $h$ , el área está dada por la fórmula  $A = bh$

**Teorema 2.-** Dado un triángulo con base  $b$  y altura correspondiente  $h$ , el área está dada por la fórmula  $A = \frac{1}{2}(bh)$

**Teorema 3.-** Fórmula de Herón.- Si un triángulo tiene lados de longitud  $a$ ,  $b$  y  $c$  entonces  $A = s(s - a)(s - b)(s - c)$ , donde  $s = \frac{1}{2}(a + b + c)$

**Teorema 4.-** Dado un trapecio con bases: Base mayor =  $B$ , base menor =  $b$  y altura =  $h$ , el área  $A$  está dada por la fórmula  $A = \frac{1}{2}(B + b)h$

**Teorema 5.-** Dado un polígono regular de  $n$  lados de longitud  $s$  y apotema  $a$ , el área  $A$  está dada por la fórmula  $A = \frac{1}{2} a n s = \frac{1}{2} a p$ , donde el perímetro  $p = n s$

**Teorema 6.-** Dado un círculo con radio  $r$  y diámetro  $d$ , la circunferencia  $C$  está dada por la fórmula  $C = \pi(\text{diámetro}) = 2\pi(\text{radio})$

**Teorema 7.-** Dado un círculo con radio  $r$ , el área  $A$  está dada por la fórmula  $A = \pi(r^2)$

**Teorema 8.-** Triángulos(paralelogramos), que tienen la misma base y que están entre paralelas tienen la misma área

### d) La circunferencia

- **Semicircunferencia:** Es un arco de longitud igual a la mitad de la circunferencia

- **Cuerda:** Es el segmento de recta que une dos puntos de la circunferencia

- **Secante:** Es la recta que corta a la circunferencia en dos puntos

- **Arco:** Es una parte de la circunferencia

- **Tangente:** Es la recta que toca a la circunferencia en un punto, . Este punto único se llama punto de tangencia o punto de contacto

- **Ángulo central:** Es aquel que está formado por dos radios
- **Ángulo inscrito:** Es aquel que está formado por dos cuerdas y tiene su vértice sobre la circunferencia
- **Circuncentro:** Punto donde se cortan las tres mediatrices de un triángulo cualquiera; es el centro de la circunferencia inscrita al triángulo

**Teorema 1.-** Tres puntos distintos y no colineales determinan una única circunferencia

**Teorema 2.-** Toda circunferencia tiene un único centro y un único radio

**Teorema 3.-** Tres puntos colineales no pueden estar en una circunferencia

**Teorema 4.-** El diámetro de una circunferencia que pasa por el punto medio de una cuerda es perpendicular a la cuerda y viceversa

**Teorema 5.-** En una circunferencia cuerdas iguales equidistan del centro y subtenden el mismo ángulo del centro

**Teorema 6.-** En una circunferencia a mayor cuerda menor distancia al centro

**Teorema 7.-** Un ángulo inscrito en un círculo es la mitad del ángulo central, ambos determinados por el mismo arco.

**Teorema 8.-** Si un ángulo está inscrito en un semicírculo, entonces el ángulo formado es un ángulo recto

**Teorema 9.-** Si los ángulos de un cuadrilátero están inscritos en un círculo, entonces cada par de ángulos opuestos son suplementarios

**Teorema 10.-** Una recta pasa por un punto del interior de una circunferencia, entonces tal recta contiene un trazo que es común con el interior de la circunferencia, y tal recta corta a la circunferencia en dos puntos

**Teorema 11.-** Una condición necesaria y suficiente para que una recta sea tangente a una circunferencia es que  $l$  sea perpendicular al diámetro que pasa por el punto de contacto

**Teorema 12.-** Si la distancia entre el centro de la circunferencia y una recta  $l$  es menor que el radio entonces  $l$  es secante; si es igual a  $r$  entonces es tangente y si es mayor que  $r$  entonces  $l$  es exterior

**Teorema 13.-** Las tangentes trazadas a una circunferencia desde un punto exterior son iguales

**Teorema 14.-** Si una línea es tangente a un círculo, entonces es perpendicular al radio dibujado al punto de tangencia

**Teorema 15.-** Si dos secantes intersectan en el exterior de un círculo, entonces la medida del ángulo formado es un medio de la diferencia de las medidas de los arcos interceptados.

**Teorema 16.-** Si una secante y una tangente intersectan en el punto de tangencia, entonces la medida de cada ángulo formado es un medio de la medida de su arco interceptado

**Teorema 17.-** Si una secante y una tangente, o dos tangentes, intersectan en el exterior de un círculo, entonces la medida del ángulo formado es un medio de la diferencia de la medida de los arcos interceptados

### e) Triángulos semejantes

- **Semejanza:** Dos triángulos son semejantes cuando tienen sus ángulos iguales y sus lados proporcionales

- **Homotecia:** Dos figuras semejantes, no congruentes, son homotéticas si sus lados correspondientes son paralelos

**Teorema 1.-** Si dos triángulos son semejantes, entonces la medida de los perímetros correspondientes son proporcionales a la medida de los lados correspondientes

**Teorema 2.-** Si dos triángulos son semejantes, entonces la medida de las alturas correspondientes son proporcionales a la medida de los lados correspondientes

**Teorema 3.-** Si dos triángulos son semejantes, entonces la medida de las bisectrices angulares correspondientes de los triángulos son proporcionales a la medida de los lados correspondientes

**Teorema 4.-** Si dos triángulos son semejantes, entonces la medida de las medianas correspondientes son proporcionales a la medida de los lados correspondientes.

**Teorema 5.-** Si D, E y F son los puntos medios de los lados del triángulo ABC, entonces el triángulo ABC es semejante al triángulo DEF

**Teorema 6.-** En el triángulo ABC, D y E son los puntos medios de AC y BC, respectivamente, entonces el triángulo ABC es semejante al triángulo DEF

**Teorema 7: Teorema de Tales de Mileto.-** Si se cortan varias rectas paralelas por dos transversales, la razón de dos segmentos cualesquiera de una de ellas es igual a la razón de los correspondientes de la otra

**Teorema 8: Teorema fundamental de la semejanza de triángulos.-** Toda paralela a un lado de un triángulo, forma con las rectas a que pertenecen los otros dos, un nuevo triángulo semejante al primero

**Teorema 9.-** Si dos triángulos son semejantes, entonces la medida de los perímetros correspondientes son proporcionales a la medida de los lados correspondientes.

**Teorema 10.-** Si dos triángulos son semejantes, entonces la medida de las altitudes correspondientes son proporcionales a la medida de los lados correspondientes

**Teorema 11.-** Si dos triángulos son semejantes, entonces la medida de las bisectrices angulares correspondientes de los triángulos son proporcionales a la medida de los lados correspondientes

**Teorema 12.-** Si dos triángulos son semejantes, entonces la medida de las medianas correspondientes son proporcionales a la medida de los lados correspondientes.

**Teorema 13.-** Si la altura es dibujada desde el vértice de un ángulo recto hacia la hipotenusa de un triángulo recto, entonces los dos triángulos formados son semejantes al triángulo dado y son semejantes entre si.

# *V Ayuda de Internet*

## ***V AYUDA DE INTERNET***

**A continuación se ofrece una breve lista de direcciones electrónicas donde los docentes o alumnos podrán encontrar información útil**

- Instituto Latinoamericano de la comunicación educativa  
[http:// www.ilce.edu.mx](http://www.ilce.edu.mx)
- El paraíso de las matemáticas  
[http:// members.xoom.com/pmatematicas](http://members.xoom.com/pmatematicas)
- Matemáticas. Antonio Pérez  
[http:// platea.pntic.mec.es/aperez4/](http://platea.pntic.mec.es/aperez4/)
- Concurso de primavera de matemáticas  
[http:// concursomatematicas.itam.mx](http://concursomatematicas.itam.mx)  
[http:// www.redesc.ilce.edu.mx/](http://www.redesc.ilce.edu.mx/)
- Olimpiada Mexicana de matemáticas  
[http:// ichi.fisimat.umich.mx/omm/](http://ichi.fisimat.umich.mx/omm/)
- Olimpiadas de matemáticas  
[http:// titan. Usach.cl/~olimpiadas/z.html](http://titan.usach.cl/~olimpiadas/z.html)

## **CONCLUSIONES**

Los 100 problemas aquí propuestos con sus respectivas soluciones, espero que puedan servir a jóvenes de 13 años en adelante a practicar para prepararse para concursos de matemáticas. Algunos de los problemas, considero que tienen cierta dificultad para los alumnos de secundaria, no quiero decir con esto que no son capaces de resolverlos o se debe a que los temas no hayan sido explicados durante la secundaria, sino más bien creo que pueden ser resueltos fácilmente por estudiantes de nivel preparatoria que ya tienen más maduración.

Estos problemas también pueden servir para ayudar a docentes que se encuentren interesados en preparar para concursos a alumnos sobresalientes en matemáticas, o para poder ir interesando a los alumnos en las clases normales. Maestros, yo recomendaría que se dieran ellos mismos y a los alumnos una oportunidad en conocer y dar a conocer la Geometría, ya que muchos saltan estos temas o los dejan para el final del curso y no permiten a los alumnos adentrarse en el conocimiento de esta rama de las matemáticas que tiene su encanto. Existen además diferentes ayudas tecnológicas en Internet que pueden utilizar para enriquecer sus clases e ir haciendo más agradable el estudio de la geometría.

Los alumnos y docentes que utilicen esta tesis o que traten de resolver problemas de éste tipo deben de estar concientes de que deberán de aprenderse y manejar una serie de teoremas y definiciones necesarias para poder resolver muchos o casi todos los problemas propuestos aquí.

Si éste trabajo de investigación, le ayuda al menos a un alumno o docente, me sentiré contenta ya que el objetivo que persigue éste trabajo estará cumplido.



## **BIBLIOGRAFÍA**

### **1.- EJERCICIOS DE GEOMETRÍA ELEMENTAL**

**AUTOR(ES):** Gonzalo Masjuán T. Fernando Arenas D.  
**EDITORIAL:** Ediciones Universidad Católica de Chile

### **2.- PROBLEMAS DE GEOMETRÍA. PLANIMETRÍA**

**AUTOR(ES):** Shariguin  
**EDITORIAL:** Mir Moscú

### **3.- GEOMETRY FOR THE CLASSROOM. EXERCISE AND SOLUTIONS**

**AUTOR(ES):** C.Herbert Clemens. Michael B. Clemens  
**EDITORIAL:** Springer-Verlag

### **4.- REQUISITOS DE GEOMETRÍA PLANA PARA LOS PROBLEMAS DE LAS OLIMPIADAS**

**AUTOR(ES):** Elias Mata Nereo  
**TESIS**

### **5.- CONCURSO DE PRIMAVERA DE MATEMATICAS**

**EXAMENES DE PRIMER Y SEGUNDO NIVEL AÑOS: 1998, 2000 Y 2001**

### **6.-BOLETÍN DEL CONCURSO DE PRIMAVERA PARA MAESTROS. NO.7 ABRIL DE 1998**

**AUTOR(ES):** Iñiqui de Olai

### **7.- EXAMENES DE OLIMPIADAS DE MATEMATICAS DE MAYO.**

**II OLIMPIADA DE MAYO 1996, III OLIMPIADA DE MAYO 1997, IV OLIMPIADA DE MAYO 1998, V OLIMPIADA DE MAYO 1999 Y VI OLIMPIADA DE MAYO 2000**

### **8.- RED ESCOLAR EN INTERNET.CARTELES MENSUALES DEL CONCURSO DE PRIMAVERA DE MATEMÁTICAS. [www.redesc.ilce.edu.mx](http://www.redesc.ilce.edu.mx)**

**AUTOR(ES):**

### **9.- PROBLEMAS PARA LA 13ª OLIMPIADA MEXICANA DE MATEMATICAS 1999**

**AUTOR(ES):**JORGE ALBARRAN, ALEJANDRO BRAVO, RADMILA BULAJICH, CARLOS CABRERA, JOSÉ A. GÓMEZ, ANA RECHTMAN